

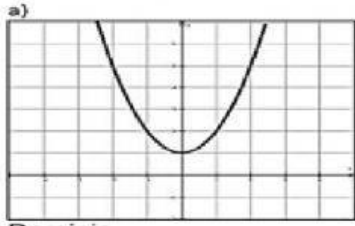
Nombre: _____

Grupo: _____

Fecha: _____

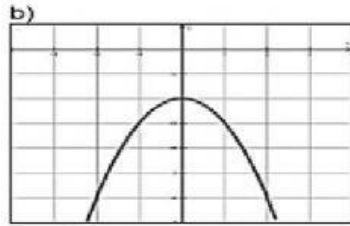
Actividad 1. Identificar el tipo de función, el dominio y el contradominio.

Instrucciones: En las siguientes gráficas observa e identifica el tipo de función, el dominio y el rango



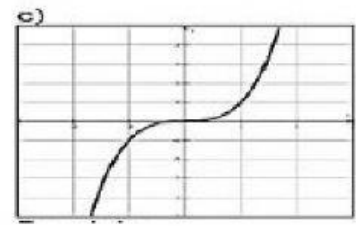
Rango: _____

Dominio: _____



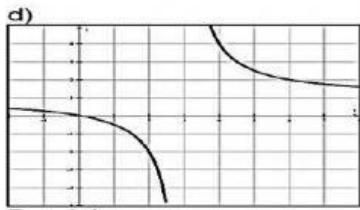
Rango: _____

Dominio: _____



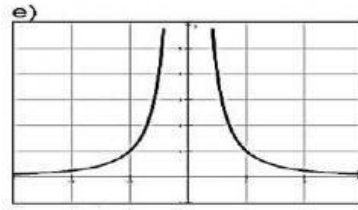
Rango: _____

Dominio: _____



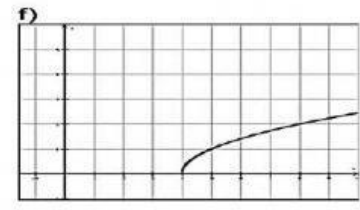
Rango: _____

Dominio: _____



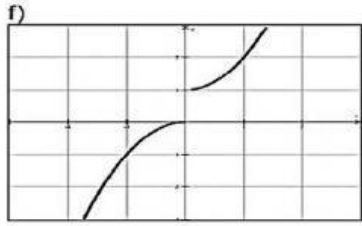
Rango: _____

Dominio: _____



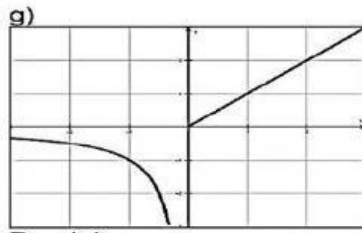
Rango: _____

Dominio: _____



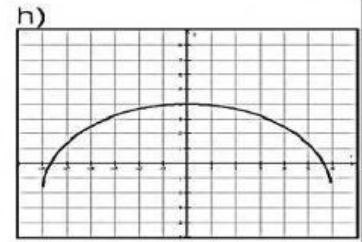
Rango: _____

Dominio: _____



Rango: _____

Dominio: _____



Rango: _____

Dominio: _____