

# MENGENAL BILANGAN

TARIK (DRAG) ANGKA SESUAI DENGAN JUMLAH BENDA!

1.   

2.   

3.   

4.   

5.   

6.   


7.   


8.   


9.   


10.   


ISILAH DENGAN ANGKA YANG BENAR!


1. 


2. 


3. 


4. 

5. 

6. 

7. 

8. 

9. 

10. 