

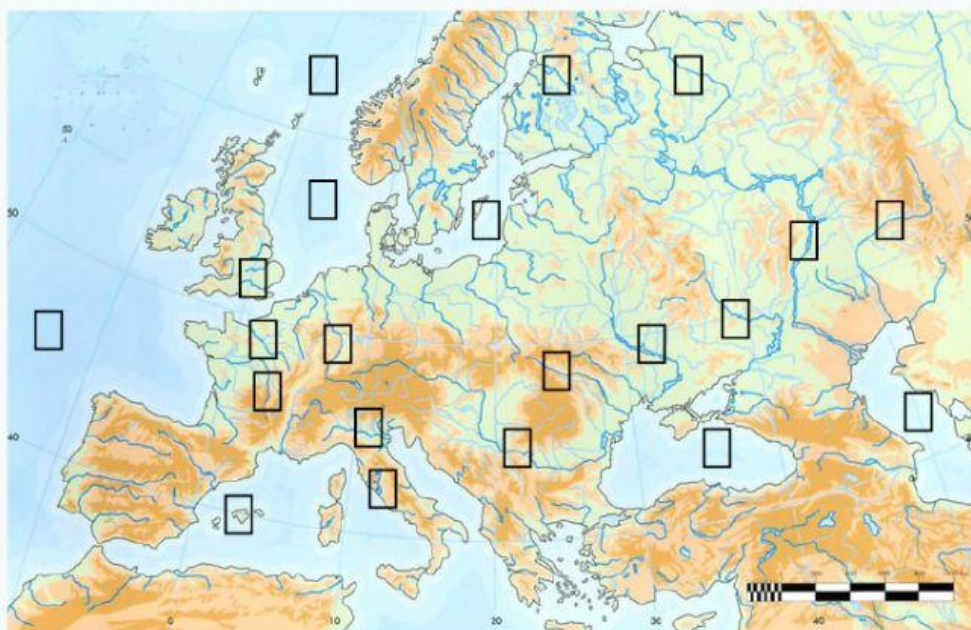
GEOGRAFÍA

FÍSICA DE EUROPA



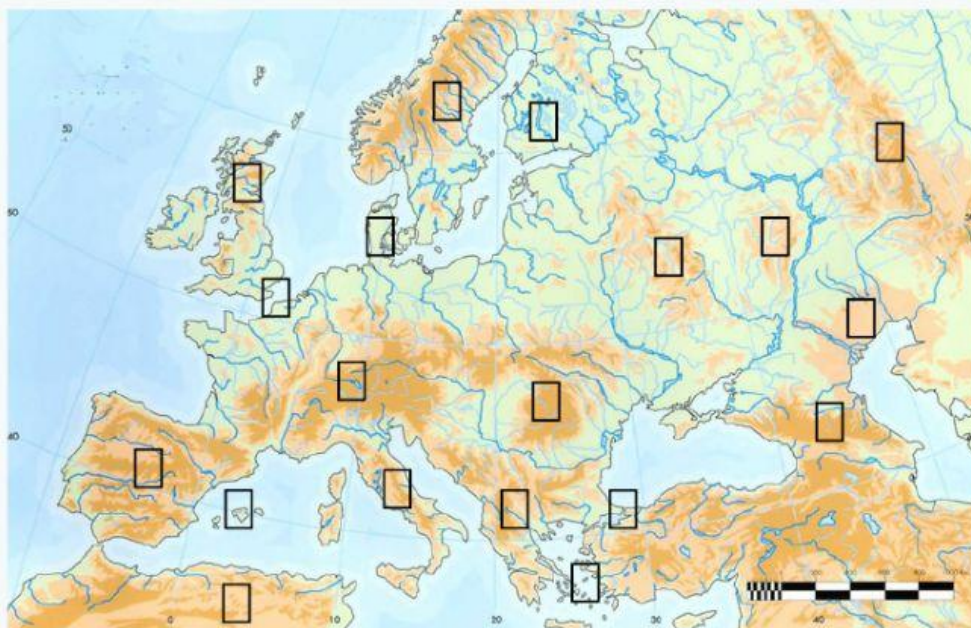
RÍOS Y MARES

ESCRIBE EL NÚMERO DE CADA RÍO DONDE CORRESPONDA



1. Sena
2. Volga
3. Po
4. Támesis
5. Ural
6. Tíber
7. Océano Ártico
8. Mar Negro
9. Mar Báltico
10. Mar Caspio

SISTEMAS MONTAÑOSOS



1. M. Escandinavos
2. Balcanes
3. Apeninos
4. Cárpatos
5. M. Urales
6. Alpes
7. Cáucaso
8. Islas Griegas
9. Meseta de Finlandia
10. Estrecho de Bósforo

**PAISAJES
CLIMAS**

COMPLETA LAS LEYENDAS DE LOS
SIGUIENTES MAPAS:








CLIMAS DE EUROPA

 Clima _____	 Clima _____
 Clima _____	 Clima _____
	 Clima _____



Tipos de clima

 Clima _____
 Clima _____
 Clima _____
 Clima _____
 Clima _____

ELIGE EN CADA CASO LA OPCIÓN CORRECTA

1. **¿Qué tipo de clima podemos encontrar en los grandes sistemas montañosos de la Península Ibérica?**

Clima
subtropical

Clima de alta
montaña

Clima
Continental

Clima
oceánico

2. **En el clima y paisajes mediterráneos en España las precipitaciones...**

son abundantes y
generalmente en
forma de nieve

regulares durante
todo el año

tienen lugar en
invierno

escasas y muy
irregulares

3. **¿Qué tipo de clima podemos encontrar en el archipiélago canario?**

Clima
subtropical

Clima
mediterráneo

Clima
Continental

Clima
oceánico

3. **¿Qué tipo de clima podemos encontrar en las Islas Baleares?**

Clima
subtropical

Clima
mediterráneo

Clima
Continental

Clima
oceánico

4. **¿En qué paisaje europeo la vegetación es casi inexistente?**

Paisaje
oceánico

Paisaje alta
montaña

Paisaje
Continental

Paisaje
subpolar

5. **¿Qué tipo de clima podemos encontrar en Gran Bretaña?**

Clima
oceánico

Clima alta
montaña

Clima
Continental

Clima
subpolar

6. **¿Cómo son las precipitaciones en el clima europeo Oceánico?**

abundantes
durante todo el
año

siempre en
forma de nieve

escasas e
irregulares

no hay
precipitaciones