


แบบฝึกหัดวิชาคณิตศาสตร์ ชั้นประถมศึกษาปีที่ 3  
เรื่อง การวัดปริมาตรและความจุ


อ่านปริมาตรและเติมคำตอบ

1)




ปริมาตร .....มล.

2)




ปริมาตร .....มล.

3)



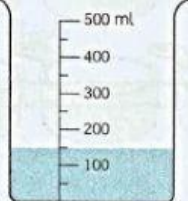
ปริมาตร .....มล.

4)




ปริมาตร .....มล.

5)




ปริมาตร .....มล.

6)



ปริมาตร .....มล.

7)



ปริมาตร .....มล.

8)




ปริมาตร .....มล.

9)




ปริมาตร .....มล.

10)



ปริมาตร .....มล.

11)



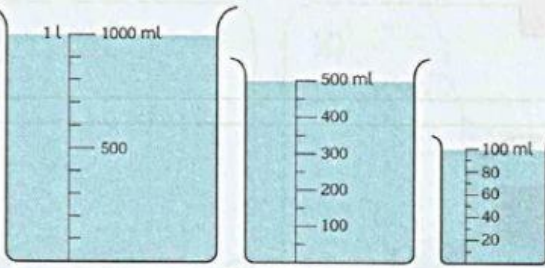
ปริมาตร .....มล.

12)



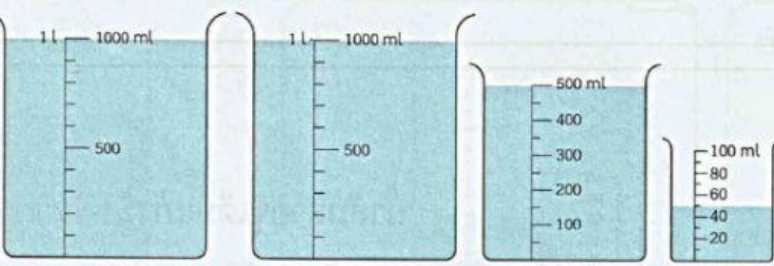
ปริมาตร .....มล.

1)



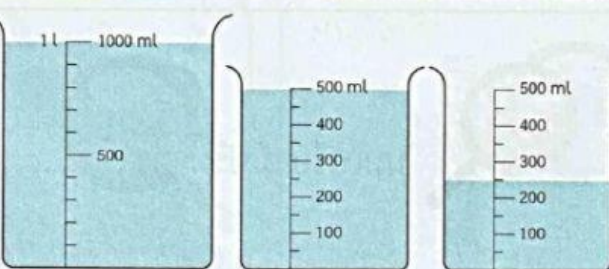
ปริมาตร ..... ลิตร ..... มิลลิลิตร

2)



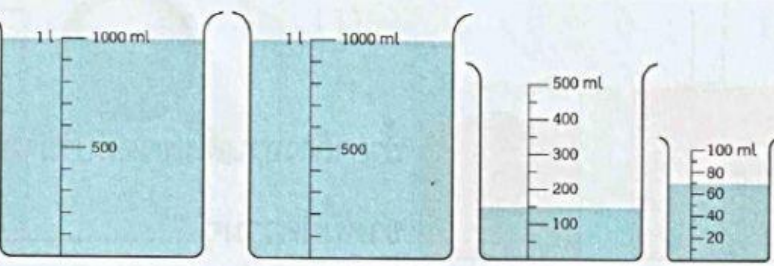
ปริมาตร ..... ลิตร ..... มิลลิลิตร

3)



ปริมาตร ..... ลิตร ..... มิลลิลิตร

4)



ปริมาตร ..... ลิตร ..... มิลลิลิตร

