

CIENCIAS NATURALES: Las células y la organización del cuerpo humano



1. Identifica cuál es una célula vegetal y cuál es una célula animal. Después, arrastra las partes a su lugar correspondiente.

Citoplasma

Cloroplasto

Núcleo

Orgánulos

Núcleo

Membrana

Pared

Membrana

Citoplasma

Orgánulos

2. Marca la respuesta correcta.

-La unidad más pequeña que forman todos los seres vivos.

Es la célula ☐

Son los tejidos ☐

Son los órganos ☐

-Los seres humanos somos seres...

Unicelulares ☐

Pluricelulares ☐



-Las células realizan...

Una única función vital, la de reproducción

☐

Dos funciones vitales, la de nutrición y reproducción

☐

Las tres funciones vitales, nutrición, reproducción y relación

☐

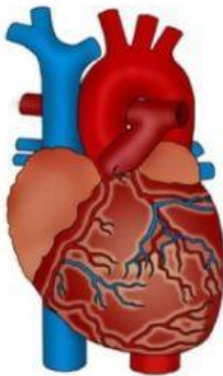
3. Elige la definición de cada una de las funciones vitales.

NUTRICIÓN

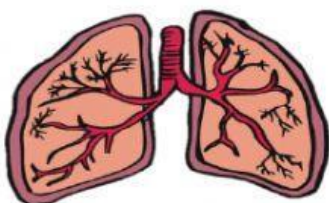
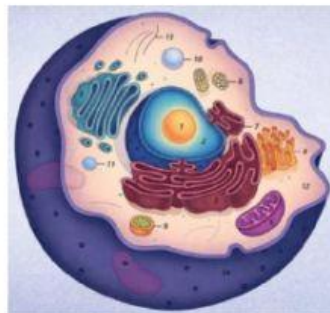
RELACIÓN

REPRODUCCIÓN

4. Escoge el nombre de los niveles de organización que representan los dibujos.



Family: scottishart.com



5. ¿Qué son los tejidos?

6. ¿Qué son los órganos?

7. ¿Qué son los sistemas?

8. ¿Qué son los aparatos?

9. ¿Cuál es el orden de organización para conseguir un ser vivo?

Células ➡️ órganos ➡️ tejidos + sistemas ➡️ aparatos

Tejidos ➡️ órganos ➡️ células + sistemas ➡️ aparatos

Células ➡️ tejidos ➡️ órganos ➡️ sistemas + aparatos