



LEMBAR SOAL

Tema : 7. Peristiwa dalam Kehidupan
Kelas / Semester : V / II
Hari / Tanggal : Senin, 21 Februari 2022
Waktu : 11.00 WITA

Nama :
No. Absen :

1. Ciri-ciri ras Kaukasoid adalah
 - a. Berambut pirang, berhidung mancung dan berkulit putih.
 - b. Berhidung pesek, dahi cekung, dan berkulit coklat.
 - c. Berambut keriting, peranakan kecil, dan kulit hitam.
 - d. Bermata sipit, berwajah oval, dan berkulit putih.
2. Masyarakat Indonesia memiliki budaya gotong royong Budaya Indonesia tersebut merupakan bentuk pengamalan nilai Pancasila sebagai
 - a. Jiwa bangsa
 - b. Dasar negara
 - c. Cita-cita bangsa
 - d. Pandangan hidup bangsa
3. Mengakui kemenangan lawan pada saat bermain menunjukkan sikap
 - a. Berani
 - b. Rela berkorban
 - c. Cinta tanah air
 - d. Berjiwa besar
4. Tindakan berikut ini yang merupakan penerapan Pancasila sebagai pandangan hidup bangsa adalah
 - a. Belajar dengan rajin
 - b. Aktif dalam kegiatan sekolah
 - c. Bergaul tanpa membedakan-bedakan teman
 - d. Bergotong royong dalam mengerjakan sesuatu
5. Ciri manusia beradab yaitu...
 - a. Saling mengejek
 - b. Saling menghormati hak asasi manusia
 - c. Suka memecah belah persatuan
 - d. Mengutamakan kepentingan golongan
6. Terhadap suku bangsa dari daerah lain kita harus saling...
 - a. Bersaing
 - b. Bermusuhan
 - c. Menghormati
 - d. Menjauhi

7. Mengikuti gotong royong atau kerja bakti merupakan bentuk tanggung jawab kita terhadap...
 - a. Diri sendiri
 - b. Keluarga
 - c. Masyarakat
 - d. Bangsa dan negara
8. Akibat tidak adanya tenggang rasa di masyarakat adalah...
 - a. Terjadinya tawuran antar pelajar
 - b. Tidak peduli terhadap teman
 - c. Keluarga menjadi tidak harmonis
 - d. Bangsa dan negara mudah terpecah belah
9. Setiap berangkat ke sekolah Rama memakai sepatu buatan Cibaduyut dan menggunakan Bahasa Indonesia dengan baik dan benar. Perbuatan Rama tersebut mencerminkan rasa bangga terhadap...
 - a. Produksi sepatunya
 - b. Bahasanya
 - c. Buatan daerahnya
 - d. Bangsa dan negaranya
10. Berikut ini salah satu perilaku menyimpang dari upaya pelestarian budaya adalah...
 - a. Mengunjungi pertunjukan budaya
 - b. Mempelajari lagu-lagu daerah
 - c. Mempelajari tarian daerah
 - d. Mempelajari budaya barat

11. Paragraf berikut untuk soal nomor 7 dan 8.

Menurut Soekarno, proklamasi kemerdekaan tidak bisa dilakukan secara gegabah dan harus menunggu Panitia Persiapan Kemerdekaan Indonesia (PPKI) yang telah dibentuk. Soekarno dan golongan tua khawatir akan muncul korban jiwa jika Indonesia mengambil keputusan terburu-buru merdeka. Pendapat tersebut membuat golongan muda bingung menentukan keputusan waktu yang tepat untuk memproklamasikan kemerdekaan.

Akhirnya golongan muda Indonesia Kembali melakukan rapat di Asrama Baperpi (Kebun Binatang Cikini) hari itu juga. Hasilnya mereka sepakat untuk menjauhkan Soekarno dan Hatta agar tidak mendapat pengaruh Jepang. Merekapun memutuskan untuk menyingkirkan Soekarno dan Hatta ke luar kota untuk menjauhkan mereka dari segala pengaruh Jepang.

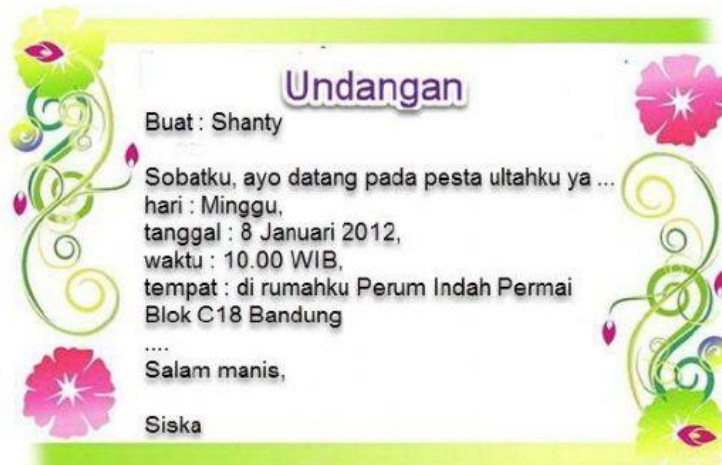
Pernyataan yang sesuai dengan bacaan tersebut adalah

- a. Para pemuda tidak ingin Soekarno dan Hatta dipengaruhi oleh pihak Belanda.
 - b. Soekarno akan membentuk Panitia Persiapan Kemerdekaan Indonesia (PPKI).
 - c. Soekarno dan para pemuda berselisih paham soal waktu pengumuman kemerdekaan.
 - d. Soekarno dan Hatta dibawa ke Asrama Baperpi (Kebun Binatang Cikini) oleh para pemuda.
12. Ringkasan yang sesuai dengan isi bacaan tersebut adalah
- a. Soekarno dan Hatta berselisih dengan para pemuda karena Soekarno dan Hatta ingin mendirikan PPKI.
 - b. Soekarno dan Hatta berselisih paham dengan para pemuda soal pengumuman kemerdekaan Indonesia.
 - c. Soekarno dan Hatta setuju untuk menunda pengumuman kemerdekaan Indonesia sebelum membentuk PPKI.
 - d. Soekarno dan Hatta menyetujui dorongan para pemuda untuk bersepakat dengan pihak Jepang.

13. Arti kosakata dapat kita temukan di....
- buku pelajaran
 - ensiklopedia
 - brosur
 - kamus
14. Orang yang membacakan teks proklamasi disebut....
- orator
 - proklamator
 - narrator
 - aktor
15. Kata di bawah ini yang memiliki persamaan makna dengan kata “kejadian” adalah....
- perbuatan
 - proklamasi
 - informasi
 - peristiwa
16. Kata edukasi memiliki arti....
- Penduduk
 - Kesehatan
 - Pendidikan
 - Pekerjaan
17. Surat undangan yang dikeluarkan oleh instansi resmi disebut....
- surat undangan pribadi
 - surat undangan resmi
 - surat undangan setengah resmi
 - surat undangan baku
18. Surat undangan ulang tahun termasuk jenis surat undangan....
- resmi
 - setengah resmi
 - pribadi
 - formal
19. Berikut yang merupakan contoh surat resmi adalah....
- surat undangan pernikahan
 - surat undangan rapat orang tua siswa
 - surat izin tidak ke sekolah
 - surat undangan ulang tahun
20. Hari dan waktu pelaksanaan acara pada surat undangan terdapat pada bagian....
- kepala surat
 - salam pembuka
 - isi surat
 - penutup surat
21. Kehadiran anda merupakan kebahagiaan kami. Kalimat tersebut merupakan surat undangan pada bagian....
- pembuka
 - isi
 - kepala surat
 - penutup

22. Cermati surat undangan berikut dengan saksama!

Kalimat penutup yang tepat untuk melengkapi undangan di atas adalah



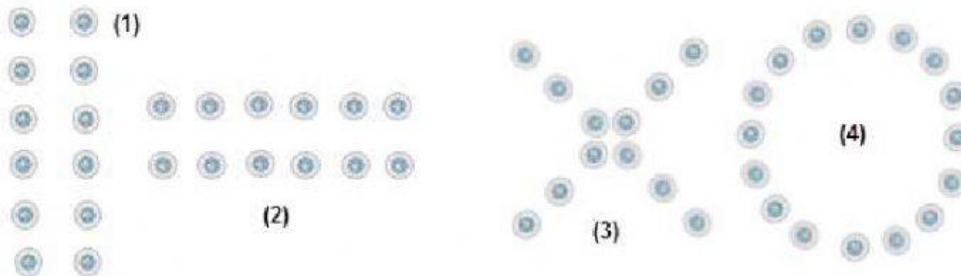
- a. Jangan lupa datang, ya!
 - b. Harus datang lho ya!
 - c. Pokoknya wajib datang, awas kalo enggak!
 - d. Demikian undangan ini dibuat, atas perhatian teman-teman semua saya mengucapkan terima kasih.
23. Kapur barus yang ditaruh di lemari lama-lama akan mengecil dan habis. Peristiwa itu terjadi karena adanya peristiwa....
- a. mengembun
 - b. menyublim
 - c. menguap
 - d. mencair
24. Perubahan wujud dari gas menjadi cair disebut....
- a. mengembun
 - b. menyublim
 - c. menguap
 - d. mencair
25. Air yang dimasak akan menguap. Hal ini disebabkan karena adanya pengaruh....
- a. kalor
 - b. suhu
 - c. cuaca
 - d. iklim
26. Berikut yang merupakan peristiwa menguap adalah....
- a. baju yang dijemur menjadi kering
 - b. es krim yang ditaruh di atas meja lama-lama menjadi cair
 - c. adanya titik air di atas mobil yang ditaruh di luar
 - d. munculnya bunga es pada freezer kulkas
27. Peristiwa berikut yang menyerap kalor adalah....
- a. mencair dan mengembun
 - b. mengembun dan menyublim
 - c. menguap dan menyublim
 - d. mengkristal dan membeku

28. Berikut ini yang merupakan peristiwa mengkristal adalah....
- baju yang dijemur menjadi kering
 - es krim yang ditaruh di atas meja lama-lama menjadi cair
 - adanya titik air di atas mobil yang ditaruh di luar
 - munculnya bunga es pada freezer kulkas
29. Berikut ini yang bukan termasuk alasan bangsa barat melakukan pelayaran adalah....
- glory
 - gospel
 - global
 - gold
30. Pelayaran Belanda yang sampai di Indonesia dipimpin oleh....
- Van Den Bosh
 - Herman W. Daendels
 - Thomas Stamford Raffles
 - Cornelis de Houtman
31. Belanda memperkenalkan sistem tanam paksa pada masa kepemimpinan....
- Daendels
 - Jacob
 - Dauwess Dekker
 - Johanes Van Den Bosch
32. Peristiwa pengibaran bendera Belanda di puncak Hotel Yamato sehingga memancing kemarahan para pemuda Indonesia terjadi di daerah....
- Yogyakarta
 - Bandung
 - Surabaya
 - Semarang
33. Yang dikenal sebagai Proklamator Indonesia adalah...
- Soekarno dan Ahmad Soebardjo
 - Moh. Hattad dan Sayuti Melik
 - Soekarno dan Moh. Hatta
 - Moh. Hatta dan Moh. Yamin
34. Salah satu tokoh Belanda yang menentang sistem tanam paksa adalah....
- Daendels
 - Jacob
 - Dauwess Dekker
 - Johanes Van Den Bosch
35. Tari srimpi ditarikan secara....
- sendiri
 - berpasangan
 - berkelompok
 - dua kelompok
36. Peralatan yang digunakan saat melakukan gerak tari disebut....
- alat tari
 - properti tari
 - pakaian tari
 - penghias tari

37. Pola lantai garis lengkung memiliki makna....

- a. lembut
- b. lambat
- c. cepat
- d. tegas

gambar untuk soal nomor 15 dan 16




38. Pola lantai horizontal ditunjukkan oleh nomor....

- a. 1
- b. 2
- c. 3
- d. 4

39. Pola lantai vertikal ditunjukkan oleh nomor....

- a. 1
- b. 2
- c. 3
- d. 4

40. Pola lantai pada gambar di bawah disebut pola lantai....



- a. diagonal
- b. zigzag
- c. horizontal
- d. vertikal