
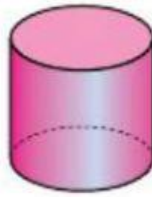


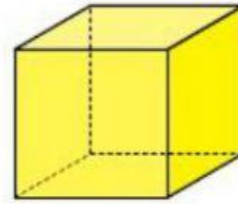
## T.9 MATEMÁTICAS LOS CUERPOS GEOMÉTRICOS



prisma



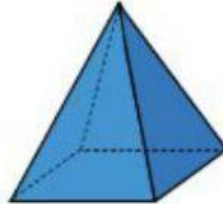
cilindro



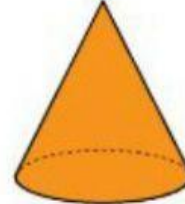
cubo



esfera



pirámide



cono

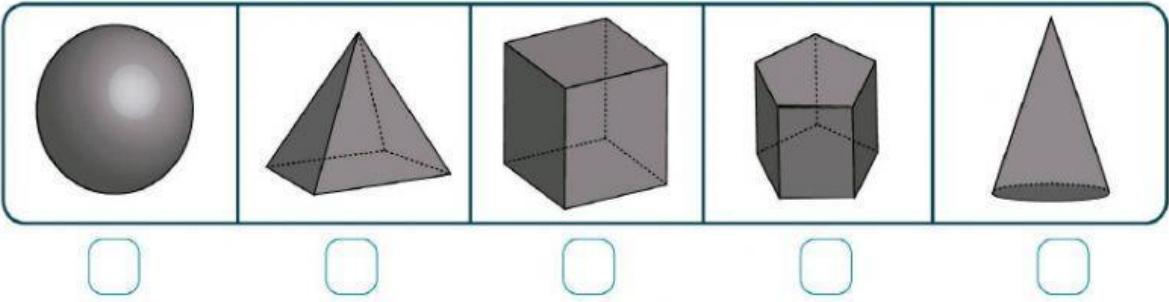
Todas estas figuras son **corpos geométricos**.

**Mira este vídeo.**

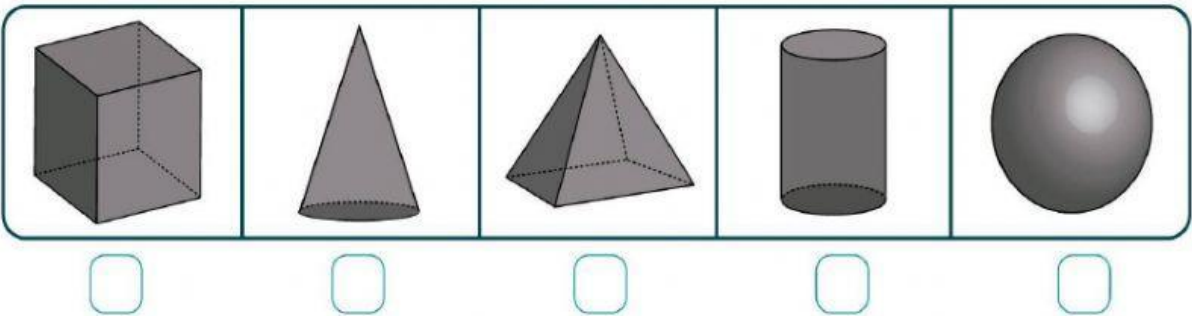
<https://www.youtube.com/watch?v=5GLduNQ5kA4>

**EJERCICIOS:**










**1. Indica cuál de estas figuras es un cono. Marca con una X.**



**2. Indica con una X cuál de estas figuras es un cilindro.**



**3. Escribe la forma geométrica a la que se parecen estos objetos:**

**4. Relaciona flechas:**

		<b>PRISMA</b>
		<b>CILINDRO</b>
		<b>CONO</b>
		<b>PIRÁMIDE</b>
		<b>ESFERA</b>