

Nombre: _____ Curso: _____ N° de lista: _____

Completa la tabla:

Se lee...	D	U,	d	c	Se escribe
Ciento siete centésimas		1	0	7	1,07
Setenta y cinco centésimas					
Dieciocho décimas					
Cien centésimas					
Ochenta y nueve décimas					


Sitúa estos precios en la recta numérica uniendo con flechas desde los círculos.:



Harry Potter y la piedra filosofal
(Harry Potter [edición Minalima] 1).
Español
de J.K. Rowling
★★★★★ ~ 829
Tapa dura
30,40€ 32,00€



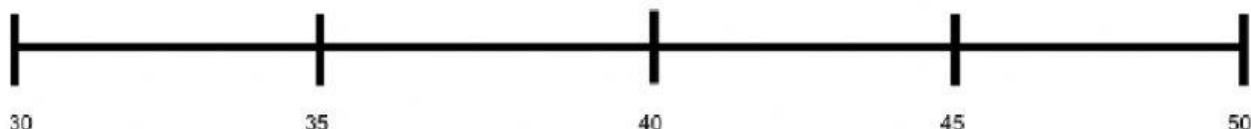
El arte de Star Wars: The
Mandalorian (Star Wars: Guías
Ilustradas)
de Phil Szostak y Albert Agut Iglesias
★★★★★ ~ 7
Tapa dura
42,75€ 45,00€



Harry Potter y el cáliz de fuego
(Harry Potter [edición ilustrada] 4)
de J.K. Rowling
★★★★★ ~ 179
Tapa dura
35,15€ 37,00€



Yoshi's Crafted World
Calificación de la PEGI: No recomendada
para menores de 3 años
★★★★★ ~ 599
Nintendo Switch
48,49€




Sigue las series:

Súmale 0,2					
7,2					8,2
Réstale 0,2					
5,9					4,9
Súmale 0,5					
20,5					23
Réstale 0,5					
25					22,5

Nombre: _____ Curso: _____ N° de lista: _____

¿Cuánto dinero tengo?

		He comprado unos libros por 22,50 euros y he pagado con un billete de 50 euros, ¿cuánto dinero me devuelven?
22,50	50	

22,93 x 4		

Este juego de lego cuesta 22,93€, si compro cuatro, ¿cuánto tendré que pagar?

