

Figuras musicales y compás

1.- FIGURAS MUSICALES- Responde verdadero o falso

El valor de una CUADRADA es de 8 pulsos _____






La suma de 8 SEMIFUSAS tiene un valor de 0.25 pulsos _____

Dieciséis fusas tienen un valor de dos NEGRAS _____


EL valor rítmico de una semifusa es de 1/32 _____

El valor rítmico de una semicorchea es de 1/8 _____

2.- suma los siguientes pulsos en las figuras


7.-Selecciona el compás correcto



2/4

3/4


4/4



2/4

3/4


4/4



2/4

3/4


4/4



2/4

3/4

4/4



2/4

3/4

4/4