

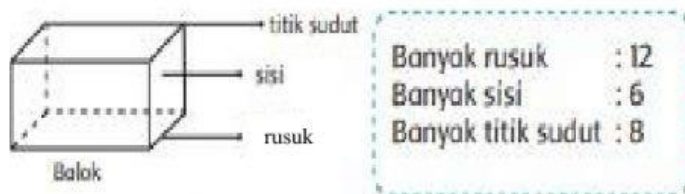
WORKSHEET

BANGUN RUANG

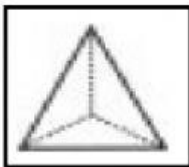


Nama :

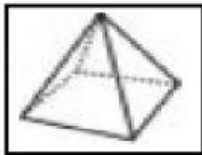
I. Perhatikan gambar di bawah dengan teliti!



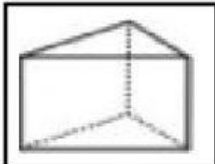
II. Jodohkan bangun ruang yang sesuai dengan banyak rusuk, sisi, dan titik sudut berikut!



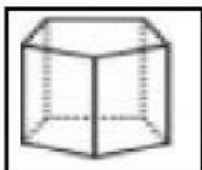
Banyak rusuk : 9
Banyak sisi : 5
Banyak titik sudut : 6



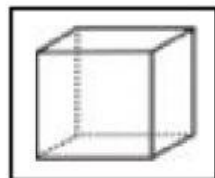
Banyak rusuk : 6
Banyak sisi : 4
Banyak titik sudut : 4



Banyak rusuk : 12
Banyak sisi : 6
Banyak titik sudut : 8



Banyak rusuk : 8
Banyak sisi : 5
Banyak titik sudut : 5



Banyak rusuk : 15
Banyak sisi : 7
Banyak titik sudut : 10

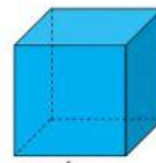

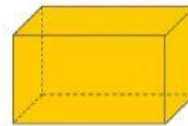
A. Berilah tanda () pada gambar-gambar yang termasuk **balok** !



B. Berilah tanda () pada gambar-gambar yang termasuk **kubus** !




C. Pasangkan benda sesuai bentuknya!

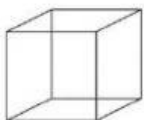


D. Perhatikan gambar di bawah ini!

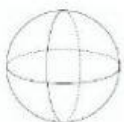
Silahkan hitung ada berapa jumlah masing-masing bangun ruang!



Jumlahnya ada



Jumlahnya ada



Jumlahnya ada



Jumlahnya ada