

Evaluación de Matemáticas

1.- Resuelva las siguientes operaciones

$$\begin{array}{r} + 73 \\ 24 \\ \hline \end{array}$$

$$\begin{array}{r} + 25 \\ 32 \\ \hline \end{array}$$

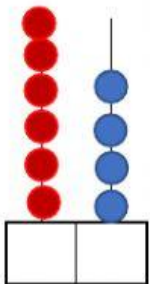
$$\begin{array}{r} 82 \\ - 12 \\ \hline \end{array}$$

2.-Complete las siguientes series numéricas

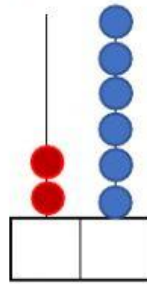
90							97		99
----	--	--	--	--	--	--	----	--	----

54			51	50				46	
----	--	--	----	----	--	--	--	----	--

3.-Cuenta. Luego escribe el número y representa en el ábaco



D	U



D	U

4.-Escribe que número va antes y que número va después



5. Escribe el numeral que representa cada descomposición


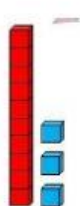
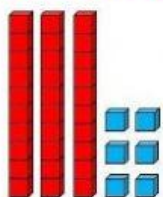
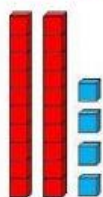
5D+3U

6D+1U

4D+8U

8D+5U

6.-Cuenta y une según corresponde




31

24

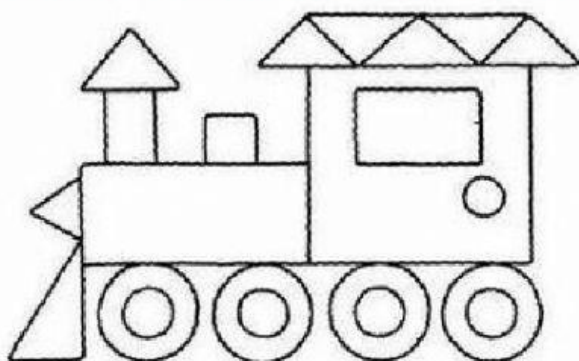
36

13

7.- Conteo de elementos



8.-Cuenta y escribe el numeral que corresponde



9.- Escribe las decenas puras según corresponde

