
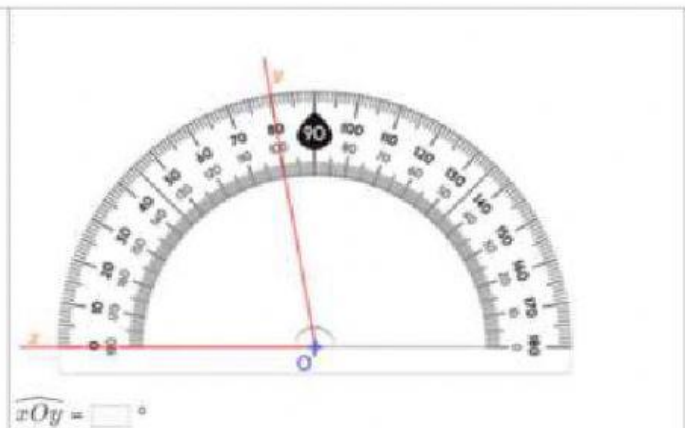
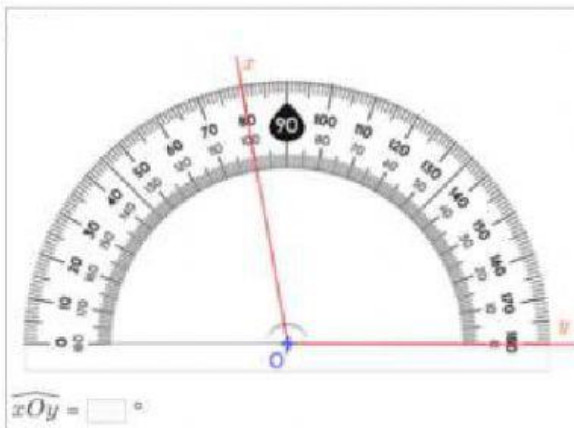
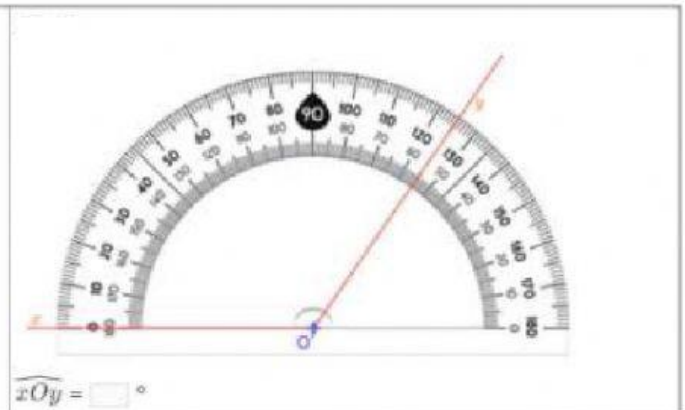
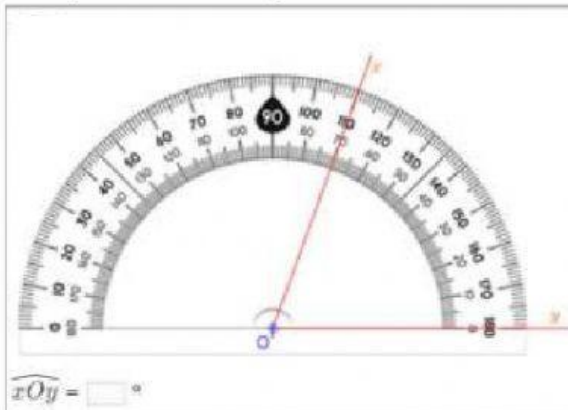


1. Húzd a megfelelő helyére a szögeket!



Nullszög	Egyenesszög	Hegyesszög	Derékszög	Tompaszög

2. Hány fokok a mért szög?



3. Keresd a párját (kösd össze az összetartozókat)!

- | | |
|---------------|--------------------------------------|
| Nullszög ● | ● $0^\circ < \alpha < 90^\circ$ ● |
| Egyenesszög ● | ● 0° ● |
| Derékszög ● | ● 360° ● |
| Hegyesszög ● | ● 90° ● |
| Teljesszög ● | ● 180° ● |
| Tompaszög ● | ● $180^\circ < \alpha < 360^\circ$ ● |
| Homorúsög ● | ● $90^\circ < \alpha < 180^\circ$ ● |

