



# ESCUELA DE EDUCACIÓN BÁSICA "EDUARDO KINGMAN"

Sibambe # 510 y Ambato

2-154-409

EXAMEN DEL PRIMER QUIMESTRE

ASIGNATURA: CIENCIAS NATURALES

AÑO BÁSICO:

NOMBRE: \_\_\_\_\_

FECHA: Durán, 21 de septiembre de 2021

CALIFICACIÓN

*Pilar Sandoval*  
FIRMA DEL PROFESOR

## 1. ESCOGE LA CLASIFICACIÓN A LA QUE PERTENECEN LOS SIGUIENTES ANIMALES INVERTEBRADOS

Araña		Sanguijuela		Pulpo	
caracol		ostra		abeja	
triquina		Estrella de mar		Medusa	
Cienpies		Planaria			

## 2. UNE LA GLÁNDULA CON SU FUNCIÓN Y COLOCA EL LITERAL QUE CORRESPONDE A LA HORMONA

Glándula

Función

Sustancia que produce

a. Hipófisis

Regula el metabolismo

☐ Linfocitos o Células T

b. Timo

Controla la función de las otras glándulas y actúa en el crecimiento

☐ Adrenalina-corticoesteroides

c. Tiroides

Nos mantiene alerta en situaciones de estrés o peligro.

☐ Hormona de Crecimiento

d. Páncreas

Regula los niveles de glucosa en la sangre

☐ Testosterona

e. Suprarrenales

Protección contra enfermedades

☐ Insulina y Glucagón

f. Testículos

Caracteres sexuales masculinos

☐ Estrógeno-Progesterona

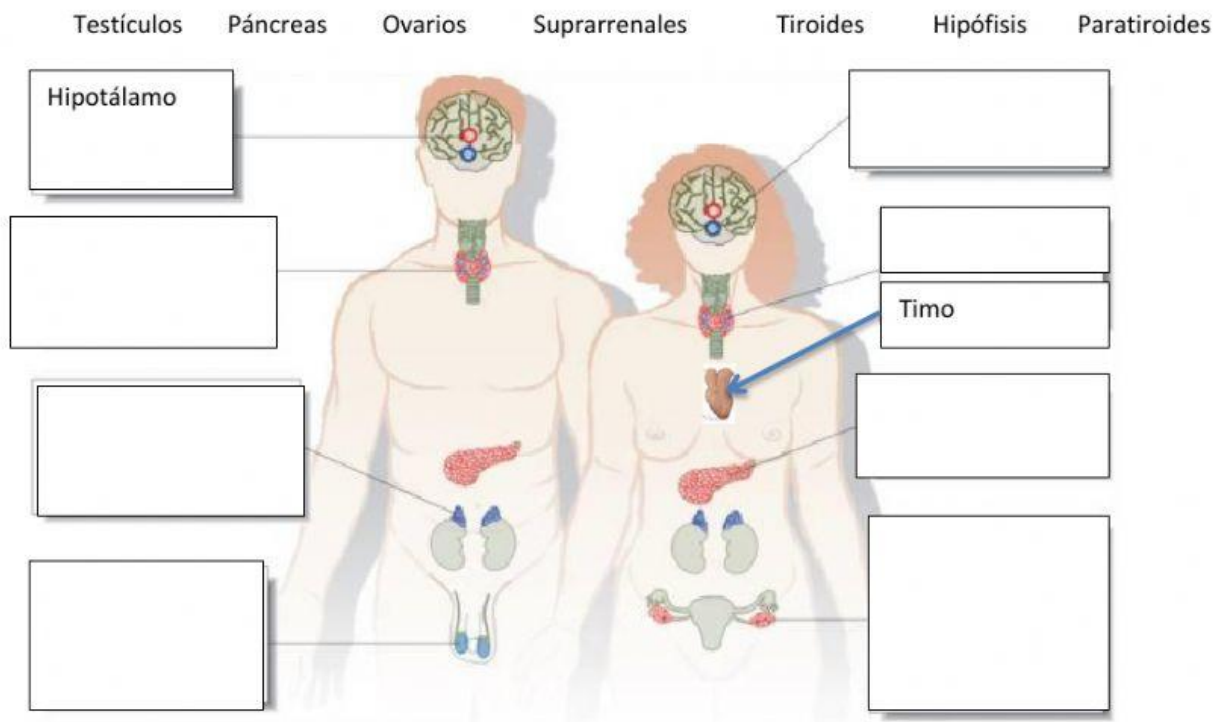
g. Ovarios

Caracteres sexuales femeninos

☐ Tiroxina

**LIVEWORKSHEETS**

### 3. ARRASTRA EL NOMBRE DE LAS GLÁNDULAS QUE HACEN FALTA EN EL GRÁFICO



### 4. COLOCA E SI ES UN ELEMENTO DEL CLIMA Y F SI ES UN FACTOR QUE MODIFICA EL CLIMA

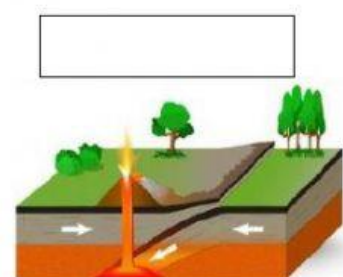
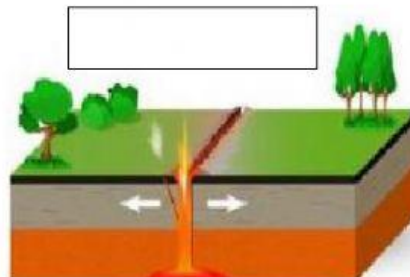
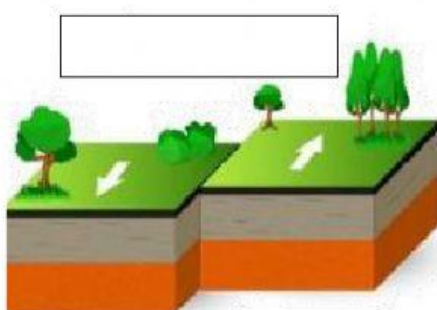
	Viento
	Humedad
	Corrientes Marinas
	Vegetación
	Presión atmosférica
	Altitud
	Latitud
	Precipitaciones
	Temperatura
	Distancia al Mar

### 5. ARRASTRA EL MOVIMIENTO DE PLACAS AL GRÁFICO QUE CORRESPONDE

A) Límite Convergente

B) Límite Divergente

C) Límite Transformante



**6. SEÑALA CON UN VISTO LOS ENUNCIADOS CORRECTOS**

<input type="checkbox"/>	La separación de placas tectónicas da origen a las Islas.
<input type="checkbox"/>	En el mundo hay 15 placas tectónicas grandes o principales.
<input type="checkbox"/>	La Cordillera de los Andes se formó por el límite divergente de las placas Sudamericana y del Pacífico
<input type="checkbox"/>	Cocos, Nazca, Juan de Fuca son placas tectónicas menores.
<input type="checkbox"/>	En la Sierra se distingue el Chocó Ecuatorial y el bosque seco

**7. ESCOGE EL INSTRUMENTO QUE SE UTILIZA PARA MEDIR LOS ELEMENTOS DEL CLIMA**

Viento

Temperatura

Humedad

Precipitación

Presión Atmosférica