



Completa los cuadros con los datos que hacen falta para saber el doble y la mitad de ese número.

El doble de es 8

porque:

+ =

El doble de es 1 2


porque:

+ =

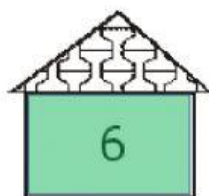
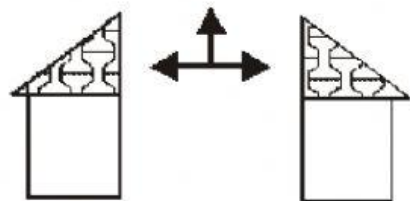
El doble de es 2 0

porque:

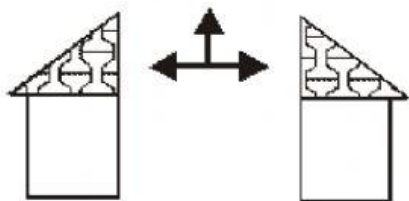
+ =



Sus mitades



Sus mitades



Sus mitades

