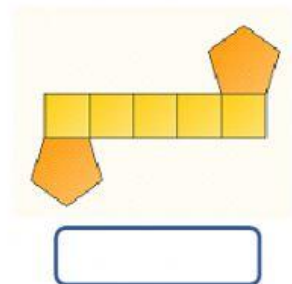
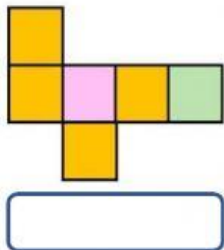
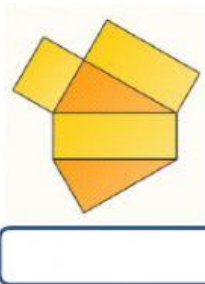
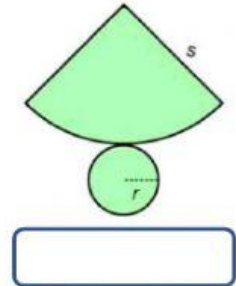
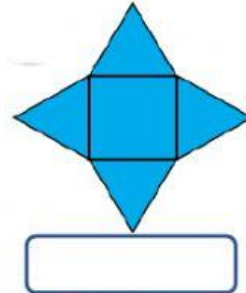
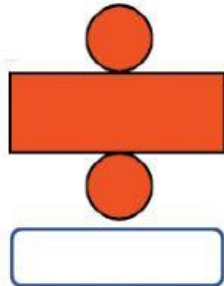
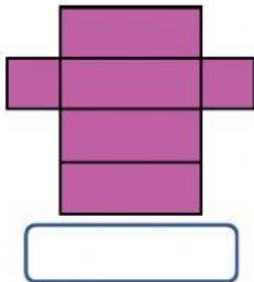


Nama :

Kelas :

Tentukan nama bangun ruang sesuai dengan jaring-jaring berikut.



Jodohkan ciri-ciri bangun ruang dengan menarik garis.

Tidak memiliki titik sudut •

Memiliki 5 sisi •

Memiliki 1 titik puncak •

Memiliki 12 diagonal sisi •

Memiliki 9 rusuk •

Hanya memiliki 1 sisi •

• Prisma segi-3

• Kerucut

• Bola

• Tabung

• Limas segi-4

• Balok