



Unidad Educativa Particular "La Consolata"

Periodo Lectivo

2021 - 2022

SEGUNDA LECCIÓN SEGUNDO QUIMESTRE SEGUNDO PARCIAL

ASIGNATURA: CIENCIAS NATURALES

APELLIDOS Y NOMBRES: _____

GRADO: _____

3ro

CALIFICACIÓN

FECHA: _____

PARALELO: _____

1.-Arrastra la imagen de la Fase de la Luna correspondiente a su nombre indicado.



LUNA LLENA






CUARTO MENGUANTE




CUARTO CRECIENTE



LUNA NUEVA



2.-Resuelve el crucigrama con las pistas que encuentras en la lista.



- a. La Tierra gira alrededor de esta estrella.
- b. Se producen por el movimiento de la Tierra alrededor del sol.
- c. Es el movimiento que hace la Tierra en un año.
- d. Nombre del movimiento que hace la Tierra en su propio eje.

3.-Escribe en cada imagen que tipo de eclipse representa.



4.-Selecciona la respuesta correcta:

El sol es un/una

planeta

estrella

La tierra es un

planeta

satelite

El sol es la estrella mas

alejada

cercana

La luna es un satélite

natural

artificial

Elaborado por: Miss Fátima Leonor Villamar B.
Docente

Revisado por: Lcda. Julia Hernández Sánchez
Coordinadora Académica