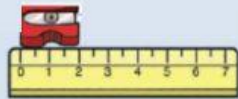




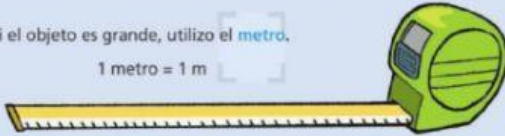
Para medir la longitud de los objetos pequeños utilizo el **centímetro**.

1 centímetro = 1 cm



Si el objeto es grande, utilizo el **metro**.

1 metro = 1 m



1 m = 100 cm

Como instrumento de medida utilizo la **regla** o la **cinta métrica**.




Para medir distancias muy largas utilizo el **kilómetro**.

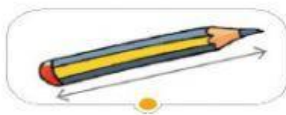
1 kilómetro = 1 km

9º Elige la unidad para medir:









metro



kilómetro



centímetro

centímetro

metro

kilómetro

metro

El largo de un camión -> _____

El ancho del cuaderno -> _____

El largo de la clase -> _____

La distancia a la Luna -> _____