

QUIZZZ

Segi Banyak
15 Questions

NAMA : _____

KELAS : _____

TANGGAL : _____

1. Berikut ini yang bukan bangun segi banyak adalah ...

A



B



C



D



2. Gambar yang merupakan segi banyak tidak beraturan adalah ...

A



B



C



D



3.



Banyak sisi pada segi banyak berikut adalah ...

A

8

B

12

C

11

D

10

4.



Bangun yang merupakan segi banyak beraturan ditunjukkan oleh nomor ...

A

2 dan 3

B

1 dan 4

C

2 dan 4

D

1 dan 2

5.



Banyak sudut pada segi banyak berikut adalah ...

A

5

B

6

C

4

D

3

6. Berikut yang merupakan ciri-ciri segi banyak beraturan adalah ...

A

besar setiap sudutnya berbeda-beda

B

terdapat sisi yang tidak sama Panjang

C

semua sudutnya sama besar

D

semua sisinya berupa garis lengkung

7. Segi banyak yang memiliki 7 sudut yang sama besar disebut ...

A

Heptagon

B

Heksagon

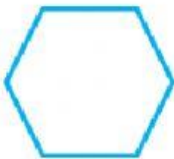
C

Segitiga beraturan

D

Oktagon

8.



Segi banyak berikut disebut ...

A

oktagon

B

heksagon

C

pentagon

D

heptagon

9.



Besar setiap sudut pada segi banyak berikut adalah ...

A

90°

B

120°

C

60°

D

30°

10.



Bangun datar berikut ini termasuk jenis segi banyak ...

A

segaris

B

bukan segi banyak

C


beraturan

D

tidak beraturan

11. Segi banyak beraturan yang memiliki 4 sisi adalah ...

A



B



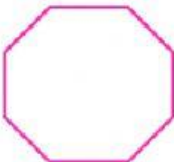
C



D



12.



Salah satu ciri dari segi banyak di samping adalah ...

A

memiliki 8 sisi lengkung

B

memiliki 8 sisi yang sama panjang

C

memiliki 6 sisi yang sama panjang

D

memiliki 5 sudut yang sama besar

13. Besar setiap sudut pada bangun heksagon adalah ...

A

120°

B

30°

C

90°

D

60°

14. Segi banyak yang memiliki 10 sisi yang sama panjang disebut ...

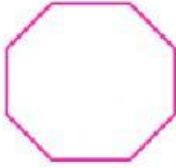
☐ A dekagon

☐ B oktagon

☐ C heptagon

☐ D hekasgon

15.



Segi banyak di samping di sebut bangun ...

☐ A oktagon

☐ B pentagon

☐ C segi 8

☐ D heksagon