



1° Básico "A"

Evaluación del 2do Parcial 2° Quimestre

LÓGICO MATEMÁTICO

Nombre: _____

Fecha: Martes 15 de Febrero /21



1. UNE EL NÚMERO CON LA DESCOMPOSICIÓN Y REPRESENTACIÓN EN BASE 10


$$60 + 2$$



$$10 + 3$$



$$90 + 9$$



2.- DALE CLICK A LOS NÚMEROS QUE TE INDICA TU MAESTRA

1	2	3	4	5	6	7	8	9	10
11	12	13	14	15	16	17	18	19	20
21	22	23	24	25	26	27	28	29	30
31	32	33	34	35	36	37	38	39	40
41	42	43	44	45	46	47	48	49	50
51	52	53	54	55	56	57	58	59	60
61	62	63	64	65	66	67	68	69	70
71	72	73	74	75	76	77	78	79	80
81	82	83	84	85	86	87	88	89	90
91	92	93	94	95	96	97	98	99	100





3.- COMPLETA LA SERIE DE LOS NUMEROS DE 2 EN 2 HASTA EL 50

2	4	6		
12		16		20
			28	
32	34			40
		46	48	



4.- UBICA LOS NÚMEROS DE 3 EN 3 HASTA EL 42





5.- REALIZA LAS SIGUIENTES SUMAS Y ESCRIBE EL RESULTADO

SUMAS

<p>①</p> $\begin{array}{r} 14 \\ + 23 \\ \hline \end{array}$ <input style="width: 100px; height: 40px;" type="text"/>	<p>②</p> $\begin{array}{r} 52 \\ + 26 \\ \hline \end{array}$ <input style="width: 100px; height: 40px;" type="text"/>	<p>③</p> $\begin{array}{r} 25 \\ + 63 \\ \hline \end{array}$ <input style="width: 100px; height: 40px;" type="text"/>	<p>④</p> $\begin{array}{r} 55 \\ + 12 \\ \hline \end{array}$ <input style="width: 100px; height: 40px;" type="text"/>	<p>⑤</p> $\begin{array}{r} 82 \\ + 17 \\ \hline \end{array}$ <input style="width: 100px; height: 40px;" type="text"/>
---	---	---	---	---



6.- REALIZA LAS SIGUIENTES RESTAS Y UNE LA RESPUESTA CORRECTA

RESTAS

①

$$\begin{array}{r} 34 \\ - 23 \\ \hline \end{array}$$

20

③

$$\begin{array}{r} 97 \\ - 45 \\ \hline \end{array}$$

21

②

$$\begin{array}{r} 53 \\ - 33 \\ \hline \end{array}$$

11

④

$$\begin{array}{r} 82 \\ - 61 \\ \hline \end{array}$$

52



7.- ORDENA LOS NÚMEROS DE MENOR A MAYOR

--	--	--

43

76

51



8.- ORDENA LOS NÚMEROS DE MAYOR A MENOR

58

14

87

--	--	--