



# YAYASAN PANGUDI LUHUR SLB B PANGUDI LUHUR

Intervensi Dini-TKLB-SDLB-SMPLB-SMALB

Jl. Pesanggrahan 125, Kembangan, Jakarta Barat 11610 Telp/Fax : (021) 5804223


Email : [slbpl-jkt@pangudiluhur.org](mailto:slbpl-jkt@pangudiluhur.org) Website : <http://slbpl-jkt.pangudiluhur.org>

Mapel / Materi : Matematika / Satuan Waktu

Nama / Kelas : \_\_\_\_\_ / D3AB

Hari, tanggal : Senin, 14 Februari 2022

Lengkapi kotak dengan nama dari bagian-bagian jam!



Pilihlah jawaban yang paling benar!

1. Jam merupakan alat yang di pakai biasanya untuk mengukur satuan....
  - a. berat
  - b. tinggi
  - c. waktu



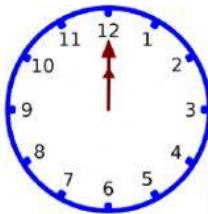
2. Bu Anggit bangun tidur pukul ....
  - a. 12.00
  - b. 05.00
  - c. 04.00



3. Saat PJJ, anak-anak mulai zoom pukul ....
- a. 08.00
  - b. 08.30
  - c. 09.00



4. Saat masuk sekolah, anak-anak pulang pukul ....
- a. 06.00
  - b. 11.30
  - c. 12.30



5. Pukul 12.00, jarum pendek dan jarum panjang berada di angka ....
- a. 11
  - b. 12
  - c. 1



6. Pukul 09.30 atau pukul sembilan lebih tiga puluh menit, jarum panjang berada di angka ....
- a. 6
  - b. 9
  - c. 10



7. Pukul 09.30 atau pukul sembilan lebih tiga puluh menit, jarum pendek berada di angka ... dan angka ....
- 6 dan 9
  - 6 dan 10
  - 9 dan 10



8. Pukul 03.30 jarum pendek berada di angka ... dan angka ....
- 3 dan 4
  - 3 dan 6
  - 4 dan 6

9. Gambar jam di bawah yang menunjukkan pukul 08.30 yaitu....



a.



b.




c.

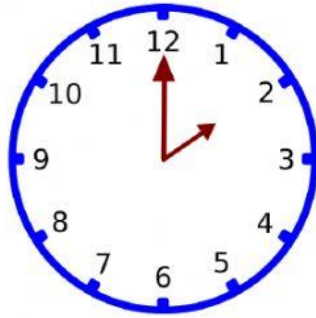
10. Gambar jam di bawah yang menunjukkan pukul 12.00 yaitu....



a.



b.



c.