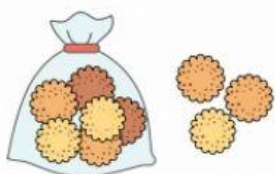






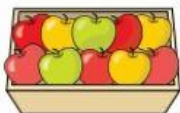
1. Обчисли, скориставшись схемами.



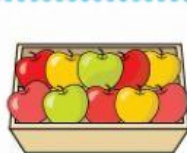
$10 + 6 + 3 = \square \square$



$\square \square + \square + \square = \square \square$



$10 + 5 + 4 = \square \square$



$\square \square + \square + \square = \square \square$



2. Виміряй довжину найдовшої ланки ламаної.



3. Обчисли.

$10 + 7 + 2$

$13 - 3 + 1$

$18 - 4 - 10$

$10 + 6 + 3$

$13 - 10 + 5$

$18 - 10 + 5$



4. Обчисли ланцюжком (значення кожного виразу є початком наступного виразу).



5. Подружки Марійка й Даринка живуть в одному будинку. Марійка живе на п'ятому поверсі, а Даринка — на вісімнадцятому. На скільки поверхів вище живе Даринка?

