

LA MASA Y EL PESO

Fíjate en las imágenes y contesta a las preguntas.

1. Escribe la palabra “menos” o “más” donde corresponda.



- El yogur pesa _____ que una magdalena.
- La naranja pesa _____ que un bote de garbanzos.

2. ¿Qué bolsa pesa más?

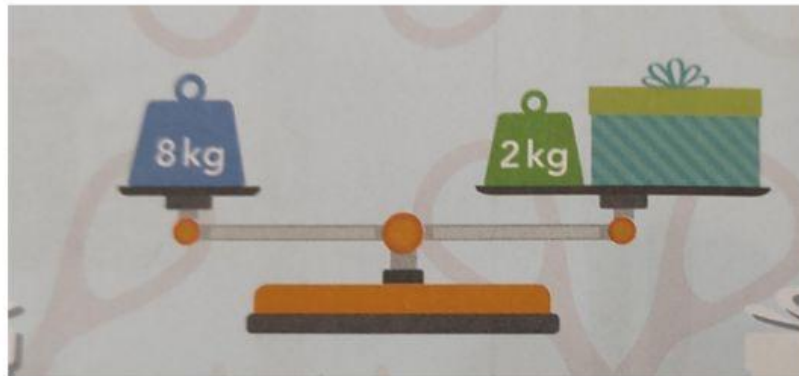


A

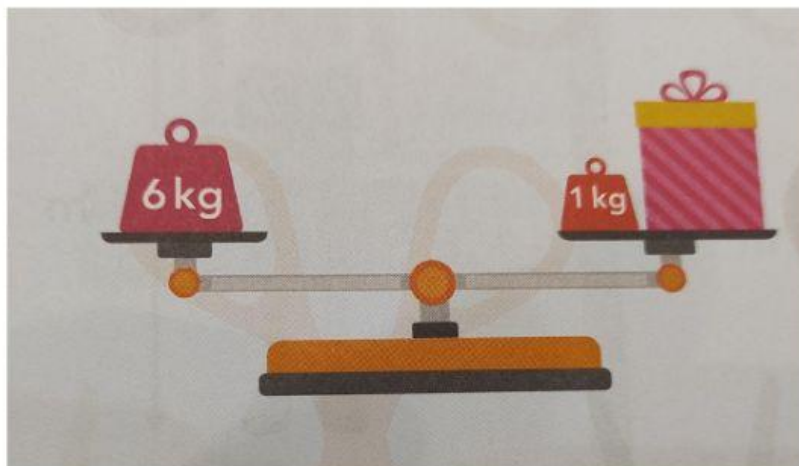
B

La bolsa que más pesa es la ____.

3. ¿Cuánto pesa cada caja?




La caja verde pesa ____ .



La caja rosa pesa ____ .

4. Jaime ha utilizado bolas como unidad para medir el peso.



Completa la tabla.

Paquete	Peso (nº de bolas)
A	
B	
C	
D	

5. Ordena las cajas de mayor a menor peso.

