

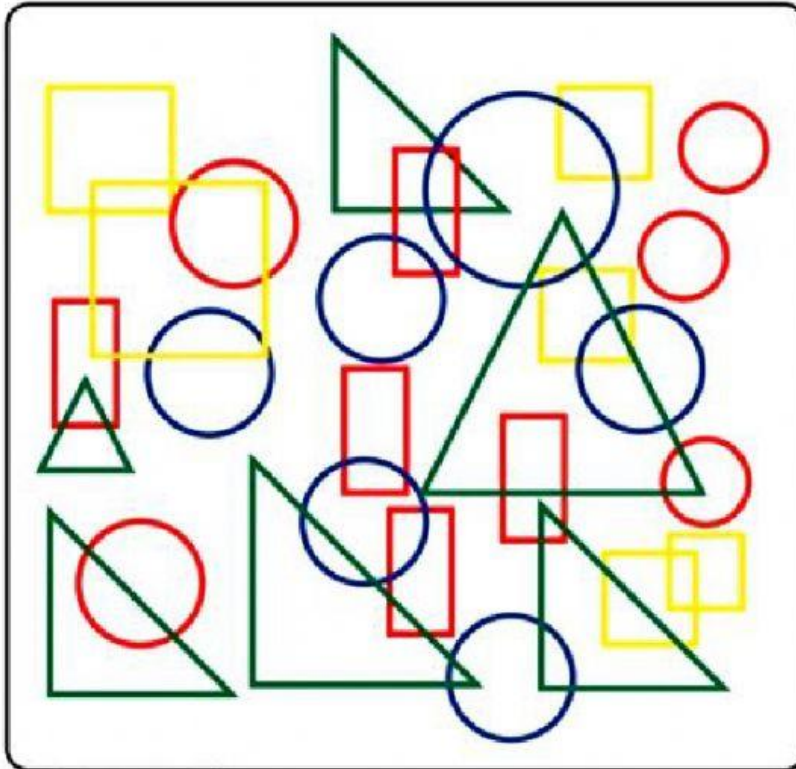


Занятие №57

Разработил: Николина Русева

Име, презиме, фамилия

Зад. 1



Колко на брой са елементите?




Зад. 2 Горска математика

В една гъста гора живяла Баба Меца със своето малко мече. Дните си минавали и един ден Мецана решила, че нейното мече е голямо вече и трябва да се научи на някои важни неща, които ще му помогнат в живота. Едно от тези неща било смятането. Затова му задала една задача, като му казала, че ако я реши, за награда ще получи кошница с горски плодове.

[www.eufunds.bg](http://www.eufunds.bg)

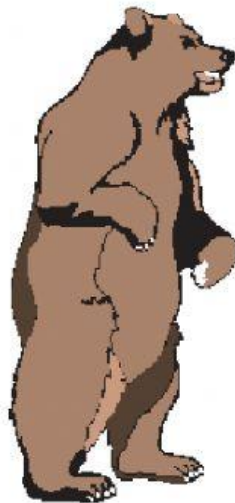


Помогнете на мечето да получи кошничката, като решите задачата. Първо открий от табличките кои плодове на кои цифри отговарят. А другата част от условието ще прочетеш по надолу.



1	6	5
4	3	8
9	7	3

Сега намери в кръгчетата съответните цифри на горните плодове и се опитай да решиш задачата.



$$\begin{array}{r}
 \begin{array}{ccc}
 \text{Strawberry} & \text{Strawberry} & \text{Raspberries} \\
 \bigcirc & \bigcirc & \bigcirc
 \end{array} \\
 + \\
 \begin{array}{ccc}
 \text{Raspberries} & \text{Grapes} & \text{Strawberry} \\
 \bigcirc & \bigcirc & \bigcirc
 \end{array} \\
 \hline
 \begin{array}{ccc}
 \text{Grapes} & \text{Raspberries} & \text{Raspberries} \\
 \bigcirc & \bigcirc & \bigcirc
 \end{array}
 \end{array}$$

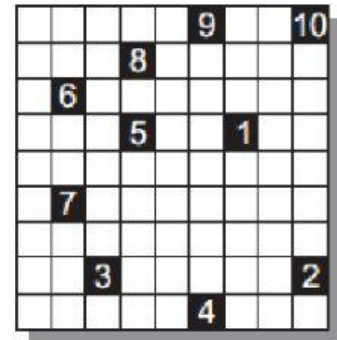
Зад. 3



## Буквословица

Открий в буквословицата 12-те зодиакални знаци. Търси ги изписани по хоризонтал, вертикал и диагонал, в правилно обратен ред. Аот шифъра ще разбереш науката, която изучава тези знаци.

е	в	е	з	н	й	т	я	
б	ъ	ч	г	а	е	р	с	ц
п	л	г	ж	л	м	к	щ	е
а	р	и	о	ш	о	а	о	л
д	й	д	з	р	х	р	в	е
е	о	и	п	н	й	е	р	
в	с	и	ж	р	а	з	н	т
а	о	т	е	л	е	ц	о	с
н	р	и	б	и	р	п	и	к



Отговорът е:

--	--	--	--	--	--	--	--	--	--

Козирог



Близнаци



Скорпион



Овен



Рак



Телец



Водолей

