



YAYASAN PANGUDI LUHUR SLB B PANGUDI LUHUR

Intervensi Dini-TKLB-SDLB-SMPLB-SMALB

Jl. Pesanggrahan 125, Kembangan, Jakarta Barat 11610 Telp/Fax : (021) 5804223

Email : slbpl-jkt@pangudiluhur.org Website : <http://slbpl-jkt.pangudiluhur.org>

ULANGAN MINGGUAN

SEMESTER II

Mata Pelajaran : IPA (Perseptif 1 dan Bacaan 2) Nama : _____
Hari/Tgl : Jumat, 11 Februari 2022 Kelas : D3AB

- Pilihlah pada huruf A, B atau C pada jawaban yang benar!
- Isilah titik-titik dengan jawaban yang benar!
- Jawablah pertanyaan dengan jawaban yang benar!

Perseptif 1

1. Contoh yang termasuk kelompok buah adalah
 - A. sawi
 - B. timun
 - C. melati



2. Gambar berikut merupakan buah yang memiliki ... banyak.
 - A. daun
 - B. biji
 - C. bunga
3. Buah yang memiliki **biji tunggal**, artinya
 - A. hanya memiliki 1 biji
 - B. memiliki biji yang banyak
 - C. tidak memiliki biji

4. Berikut buah yang memiliki 1 biji yaitu



5.  Buah markisa mempunyai jumlah biji

A. tidak mempunyai biji

B. banyak

C. tunggal (satu)

6. Berikut contoh buah –buahan yang memiliki **1 biji** adalah

A. kurma, alpukat dan leci

B. anggur, alpukat dan rambutan

C. rambutan, leci dan nanas

7. Buah yang **tidak memiliki** biji adalah

A. pisang, kelapa dan nanas

B. pisang, kiwi dan kelapa

C. nanas, alpukat dan kelapa

8. Buah jambu memiliki jumlah biji _____






9. Buah _____ memiliki tidak memiliki biji.






10. Buah _____ memiliki biji tunggal.

11. Buah _____ memiliki biji yang banyak.

12. Tulislah nama buah dan jumlah bijinya!

Gambar	Nama buah	Jumlah Biji (tanpa biji, berbiji satu, atau berbiji banyak)
	_____	_____
	_____	_____
	_____	_____

	_____	_____
	_____	_____
	_____	_____

Bacaan 2

13. Zat-zat yang penting untuk tubuh untuk bertumbuh besar, tinggi dan sehat disebut....

- A. cairan
- B. vitamin
- C. obat-obatan

14. Pepaya, wortel, dan mangga mengandung

- A. vitamin E
- B. vitamin A
- C. vitamin C



15. Orang mengalami penyakit beri-beri karena kekurangan

- A. vitamin A
- B. vitamin B
- C. vitamin C



16. Berikut merupakan gambar ... sumber vitamin E.

- A. kacang-kacangan
- B. biji-bijian
- C. keju



17. Susu dan telur mengandung

- A. vitamin B
- B. vitamin D
- C. vitamin C

18. Vitamin C ditemukan pada buah



A. delima



B. jeruk



19. Vitamin yang berfungsi untuk membantu mengobati luka agar tidak mengeluarkan banyak darah adalah

- A. vitamin D
- B. vitamin K
- C. vitamin E

20. Vitamin C berfungsi untuk _____.

21. Vitamin yang berguna untuk kesehatan mata adalah vitamin _____.




22. Buah kurma mengandung vitamin _____.




23. Buah kiwi mengandung vitamin _____.

24. Contoh buah yang mengandung vitamin C adalah _____.

25. Tentukanlah manfaat vitamin yang terkandung pada buah-buah berikut!

No	Nama Vitamin	Manfaat
1.	Vitamin A 	

2.	<p>Vitamin B</p> 	
3.	<p>Vitamin C</p> 	
4.	<p>Vitamin D</p> 	
5.	<p>Vitamin E</p> 	
6.	<p>Vitamin K</p> 