

## ECUACIONES DE RECTA



Identifica el valor de las pendientes en las siguientes ecuaciones de rectas, y escríbela en cada rectángulo.

$$y = -8x + 2$$

m =

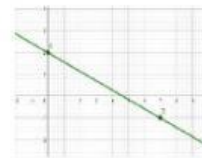

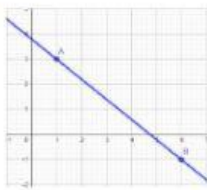
$$y = -\frac{2}{3}x + 2$$

m =

$$y = x + 6$$

m =

Observa las siguientes gráficas de rectas y escribe en el rectángulo si son ascendentes o descendentes.



Determina el valor de la pendiente de la recta que pasa por los puntos A (5,0) y B (9,-2)

m =