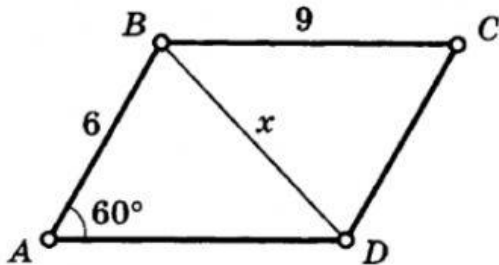


## Решение треугольников.

В ответе не указываем единицы измерения; десятичные дроби вводим через запятую

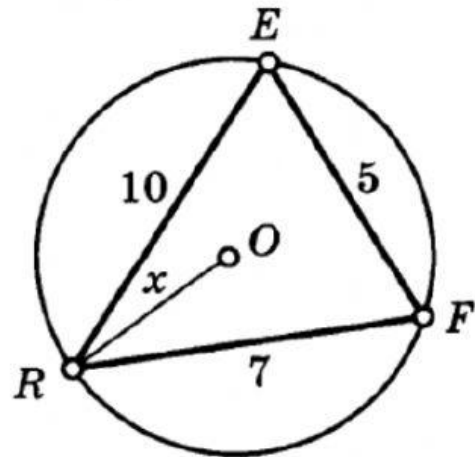
Найдите  $x, y$

1.  $\square ABCD$  — параллелограмм



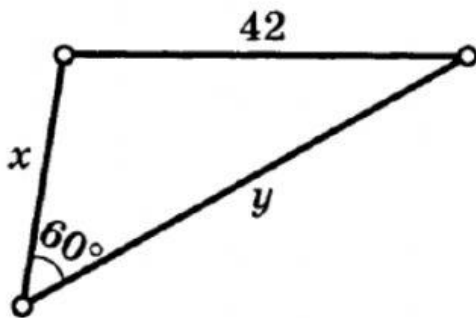
Ответ:  $x = \sqrt{\quad}$

2. Ответ округлите до целых



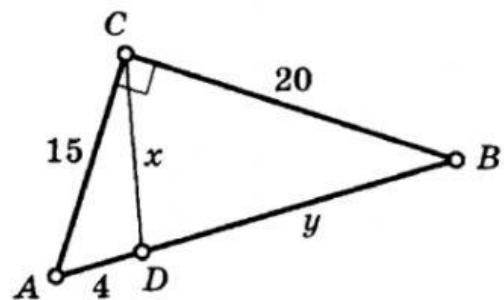
Ответ:  $x =$

3.  $x:y = 3:8$



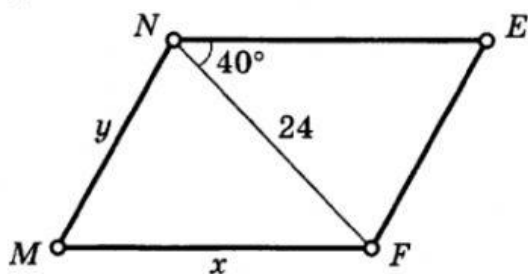
Ответ:  $x =$                        $y =$

4. Ответ округлите до целых



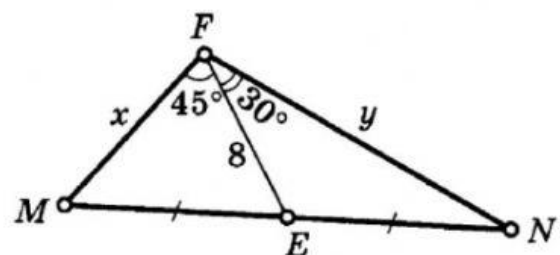
Ответ:  $x =$                        $y =$

5. MNEF — параллелограмм, угол  $MFE = 120^\circ$ . Ответ округлите до десятых.



Ответ:  $x =$                        $y =$

6. Ответ округлите до десятых.



Ответ:  $x =$                        $y =$