



LEMBAR KERJA GARIS & SUDUT

Oleh: Sarmila (2225190025)



Perhatikan Video Pembelajaran Berikut ini!



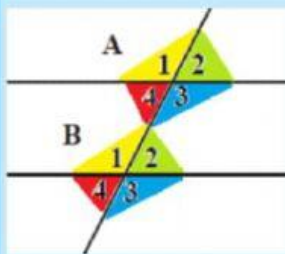


LEMBAR KERJA GARIS & SUDUT

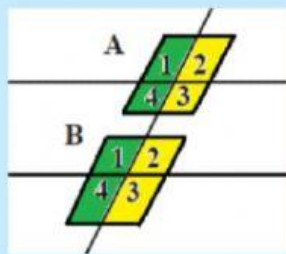
Oleh: Sarmila (2225190025)



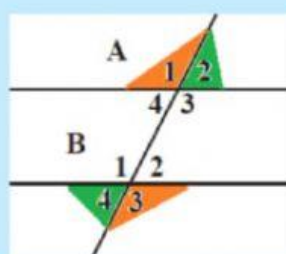
A. Perhatikan gambar dibawah ini, dan cocokkan antara gambar dengan pernyataan yang sesuai, dengan cara menggeser pernyataan kegambar yang sesuai!



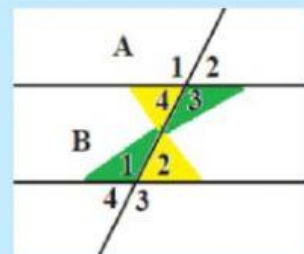
Geser ke sini



Geser ke sini



Geser ke sini



Geser ke sini

Sehadap

Sejajar

Luar Bersebrangan

Dalam Bersebrangan

B. Jawablah pertanyaan di bawah ini!

1. Kedua garis yang saling membentuk titik potong adalah...
2. Titik Temu kedua garis yang berpotongan adalah....
3. Suatu ruang yang terdapat di daerah antara dua garis yang saling berpotongan adalah....



LEMBAR KERJA GARIS & SUDUT

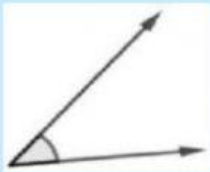
Oleh: Sarmila (2225190025)



C . Jodohkan gambar sudut sebelah kiri dengan sebutan jenis sudut pada sebelah kanan dengan cara menarik garis dari gambar ke sebutan yang sesuai!



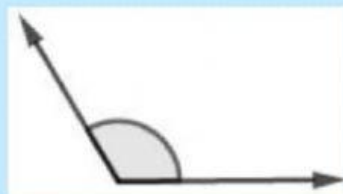
sudut
Refleks



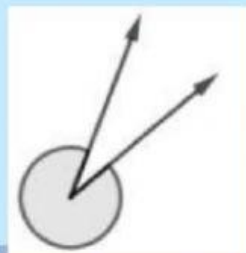
sudut
Lurus



sudut
siku-siku



sudut
Lancip



sudut
Tumpul





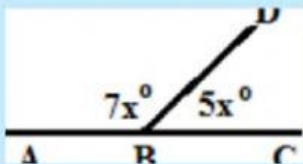
LEMBAR KERJA GARIS & SUDUT

Oleh: Sarmila (2225190025)



D. Jawablah soal berikut ini dengan cara memilih huruf A, B, C, dan D pada jawaban yang dianggap kamu paling benar!

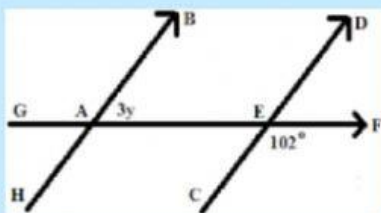
1. Perhatikan gambar di bawah ini



Besar $\angle ABD$ adalah

- A. 98°
- B. 105°
- C. 112°
- D. 119°

2. Perhatikan gambar di bawah ini



Nilai y adalah

- A. 24°
- B. 25°
- C. 26°
- D. 34°