



## LENGUAJE

LEE CON MUCHA ATENCIÓN Y DESPUÉS CONTESTA LAS PREGUNTAS.

### LA RANA

Las ranas ponen huevos y por eso son animales ovíparos. De los huevos de las ranas salen sus crías que se llaman renacuajos. Los renacuajos no tienen patas y viven en el agua.

Cuando los renacuajos crecen se convierten en ranas, les salen las patas y viven en la tierra, pero cerca del agua.

Su piel es lisa y siempre está húmeda. Las ranas no tienen cola. Tienen cuatro patas y las traseras están más desarrolladas porque son las que usan para saltar. Las ranas tienen esqueleto por eso son animales vertebrados.

➤ 1 a la 4.- Escribe con una **F** si lo que se dice es falso y con una **V** si es verdadero.

- ☐ La rana es un animal mamífero.
- ☐ Las ranas tienen esqueleto.
- ☐ La piel de la rana siempre esta mojada.
- ☐ La rana tiene una cola muy pequeña.



➤ Colorea el círculo  que completa la oración.

5.- ¿Cómo se llaman las crías de las ranas?

☐ ranitas

☐ sapitos

☐ renacuajos

6.- Las ranas nacen de un huevo, por eso se llaman animales:

☐ vertebrados

☐ ovíparos

☐ mamíferos

➤ 7.- Ordena las palabras y forma una oración.

no cola. ranas Las tienen

---

➤ 8.- Separa las palabras y forma una oración.

Lasranasvivencercadelagua.

---

➤ 9.- Escribe lo que ves.



---



---



---



---



---



---



---



---

- 10.- Inventa una oración para cada ilustración.



---

---

---

---

---

---

- 11.- Inventa un nombre propio para cada niño.



- 12.- Escribe la acción que realiza cada personaje.



---

---

---

---


- Luis y su papá fueron de pesca. Pero como el río estaba muy contaminado, sólo sacaron basura.
- 13.- Observa lo que pescaron y completa la oración.



Luis y su papá pescaron una

## MATEMÁTICAS

- 1 a la 3.- Escoge el animal que va en tercer lugar, el que va en quinto lugar y el que va en noveno lugar.



- Observa los precios de los juguetes y el dinero que tiene cada niño y contesta las preguntas.



Manuel



Oscar





4.- ¿Quién tiene más dinero? \_\_\_\_\_

5.- ¿Cuánto dinero tiene Manuel? \_\_\_\_\_

6.- ¿Cuánto dinero tiene Oscar? \_\_\_\_\_

7.- Manuel se gastó todo su dinero. ¿Qué juguetes se compró?

\_\_\_\_\_

➤ 8.- Ordena los precios de los juguetes del menor al mayor.

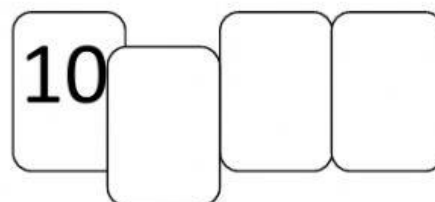
\_\_\_\_\_, \_\_\_\_\_, \_\_\_\_\_, \_\_\_\_\_, \_\_\_\_\_.

9 y 10.- Observa y completa las series.

7, 17, \_\_\_\_\_, 37, \_\_\_\_\_, \_\_\_\_\_, \_\_\_\_\_, \_\_\_\_\_, \_\_\_\_\_

\_\_\_\_\_, \_\_\_\_\_, \_\_\_\_\_, 42, 52, \_\_\_\_\_, \_\_\_\_\_, \_\_\_\_\_, \_\_\_\_\_

➤ 11 y 12.- Escribe los números que faltan en las tarjetas para que el resultado de sumarlos sea **57**.



➤ 13.- Encuentra los números que hacen falta.



- 14 y 15.- Escribe el número que está antes y el que está después.

19

60

- 16 a la 18.- Anota el signo de  $+$  o  $-$  en los recuadros para completar las operaciones.

$4 \square 9 = 13$

$24 \square 6 = 30$

$17 \square 7 = 10$

- 19 a la 20.- Revisa las operaciones. Con una  $\checkmark$  las que estén correctamente resueltas.

☐

$43 + 10 = 53$

☐

$15 + 40 = 45$

☐

$27 + 30 = 47$

- 21 y 25.- Marca lo que se puede utilizar para medir el largo del patio de la escuela.



- Resuelve los siguientes problemas.

26.- Ricardo tiene 16 canicas, pero le tiene que dar la mitad a su hermano Luis. ¿Cuántas canicas le tiene que dar? \_\_\_\_\_

27.- Susana y Rosario contaron sus muñecas. Susana tiene 12 y Rosario tiene el doble de muñecas que Susana. ¿Cuántas muñecas tiene Rosario?

\_\_\_\_\_

## EXPLORACIÓN DE LA NATURALEZA Y LA SOCIEDAD.

➤ 1.- Escribe tu nombre completo.

➤ 2.- La localidad donde vives se llama:

➤ 3.- Señala los días que vas a la escuela.

Lunes	Miércoles	Jueves	Sábado	Viernes	Martes	Domingo
-------	-----------	--------	--------	---------	--------	---------

➤ 4 a la 9.- Observa que meses hacen falta. Búscalos en la sopa de letras y después los escribes en el orden correcto.

E	N	Y	A	U	W	V	U	M	D	N	O	H	A	H	M	N	X	F	X
E	D	B	O	U	J	S	G	V	I	B	G	D	T	I	K	E	H	F	O
P	S	R	A	M	U	Q	Ñ	Y	E	F	W	I	V	D	M	U	G	U	O
I	N	T	I	I	L	B	Z	K	V	R	S	C	L	G	E	I	Z	O	T
B	Ñ	V	G	O	I	W	Ñ	G	M	D	B	I	M	O	G	F	Q	W	S
Q	Y	K	X	Q	O	M	M	Z	G	L	W	E	A	A	Z	I	B	R	V
P	L	K	M	V	W	A	G	O	S	T	O	M	W	Ñ	X	Q	X	O	G
Q	V	Z	Y	E	B	R	B	G	E	F	A	B	R	I	L	E	F	N	H
X	G	K	M	V	F	Z	R	D	Ñ	F	Z	R	K	P	L	Y	L	D	K
G	G	Z	K	Z	U	O	C	T	U	B	R	E	A	F	M	X	A	R	H

Enero  
\_\_\_\_\_  
\_\_\_\_\_  
\_\_\_\_\_

Febrero  
\_\_\_\_\_  
Mayo  
\_\_\_\_\_  
Noviembre  
\_\_\_\_\_

\_\_\_\_\_  
Junio  
\_\_\_\_\_  
Septiembre  
\_\_\_\_\_

- 10.- Escribe dos costumbres o tradiciones que se festejen en tu localidad.

\_\_\_\_\_ y  
\_\_\_\_\_

- 11.- Escribe 2 medios de transporte de tu comunidad.


\_\_\_\_\_

- 12.- Escribe el oficio o la profesión según corresponda.

Hace los muebles: \_\_\_\_\_


Repara los vehículos: \_\_\_\_\_

- 13.- Escribe las partes del cuerpo del niño y de la niña.





- 14.- Marca los que NO son Recursos Naturales.



- 15.- Marca la respuesta correcta.

¿Cuál de los siguientes trabajos se realiza por la noche?

☐ jardinero

☐ velador

☐ barrendero

¿Este astro te da su energía en forma de luz y calor?

☐ planeta

☐ sol

☐ cometa

¿Permite saber si un alimento es dulce, salado, amargo o ácido?

☐ olfato

☐ gusto

☐ tacto

- 16.- Une con una línea el hecho histórico con la fecha en que se festeja.

Día de la madre

12 de abril

Día del niño

6 de agosto

Aniversario de Cochabamba

27 de mayo

Día del padre

19 de marzo

Día de la Patria

14 de septiembre