






LKPD PRAKARYA KELAS 9

PINDAHKAN JAWABAN YANG BENAR ,SESUAI DENGAN GAMBAR DIATAS DENGAN MEMINDAHKAN JAWABAN PADA KOTAK YANG DISEDIAKAN

TONTON DAN AMATI VIDIO DIBAWAH INI

PLASTIK


LOGAM

KAYU

BATU

KERAMIK

COCOKAN GAMBAR DIATAS DENGAN JAWABAN YANG ADA DIBAWAH INI.

**WADAH
LILIN FUNGSI
PAKAI**

**KALUNG FUNGSI
PAKAI/HIAS**

**KURSI ROTAN
FUNGSI PAKAI**

**COBEK FUNGSI
PAKAI**

**TEKO FUNGSI
HIAS**

HUBUNGKAN GAMBAR PADA NAMA ALAT KERAJINAN BAHAN KERAS PADA KOTAK DIBAWAH INI



ALAT KERAJINAN
ROTAN

ALAT KERAJINAN
LOGAM

ALAT KERAJIAN
KERAMIK

ALAT KERAJINAN
KAYU

ALAT KERAJINAN
BAMBU