




แบบฝึกทักษะที่ 3.1

คำชี้แจง ให้นักเรียนเติมคำตอบลงในช่องว่าง ให้นักต่อง

 $15 - \square = -15$ $23 = \square$

$\square - \square = -16$

$11 = \square$ $20 - \square = -16$


$37 - \square = \square$ $\square - \square = \square$

$40 = \square$ $\square - \square = \square$

$\square - \square = 2$ $\square = 5$

$\square - \square = 28$ $11 - \square = -15$

34 $47 - \square = \square - \square = 38$

$43 - \square = 6$ 

ชื่อ-สกุล..... ชั้น..... เลขที่.....





แบบฝึกทักษะที่ 3.2

คำชี้แจง ให้นักเรียนเติมคำตอบลงในช่องว่าง ให้นักดูตอง



$$-15 - \square = 0$$

$$-20 - \square = -19$$

-

-

-6

$$-8 - \square = -27$$

=

=



$$\square - \square = -4 \quad \square - \square = \square$$

-


$$-6 - \square = -12$$

$$\square - \square = \square$$

-

=

$$-5 \quad 5 - \square = -1$$



5

=

=

$$\square - \square = 4$$

$$-38 - \square = 2$$

=

-

10

$$-9 - \square = \square - \square = -1$$



=

$$-1 - -4 = 3$$

ชื่อ-สกุล..... ชั้น..... เลขที่..... 

