

Lección de matemáticas

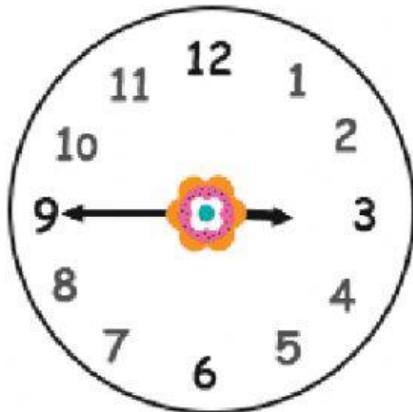
2do Parcial 2do Quimestre

Nombre: _____

1.- Relaciona con una flecha , cada reloj con su hora digital



15:45







4:30







13:00

2.- Cuento y escribe el valor de cada grupo de monedas



 = 



 = 



 = 

 = 

3.- Cuento y escribe el valor de cada grupo de billetes

 = 

 = 

 = 

4.- Observa los días de la semana de HOY y ubica el AYER y el MAÑANA

		
AYER FUE	HOY ES	MAÑANA SERÁ
	LUNES	
	MARTES	
	MIÉRCOLES	
	JUEVES	
	VIERNES	
	SÁBADO	
	DOMINGO	

domingo

sábado

lunes

martes

jueves

miércoles

viernes

sábado

domingo

martes

lunes

jueves

miércoles

viernes

5.- Observa los meses del año y ubicarlos de manera correct

Abril	Noviembre	1.º	<input type="text"/>	7.º	<input type="text"/>
Septiembre	Julio	2.º	<input type="text"/>	8.º	<input type="text"/>
Agosto	Octubre	3.º	<input type="text"/>	9.º	<input type="text"/>
Febrero	Diciembre	4.º	<input type="text"/>	10.º	<input type="text"/>
Marzo	Junio	5.º	<input type="text"/>	11.º	<input type="text"/>
Mayo	Enero	6.º	<input type="text"/>	12.º	<input type="text"/>

