

1. Ordena cronológicamente estas especies y únelas con sus características.

<i>Homo habilis</i>	Fabricó los primeros utensilios
<i>Homo erectus</i>	Fue el primero en caminar erguido
<i>Australopithecus</i>	Primera utilización del fuego
<i>Homo sapiens</i>	Realizó arte rupestre
<i>Homo neanderthalensis</i>	Realizó los primeros enterramientos

2. Completa el texto con las palabras del recuadro.

Prehistoria	sedentarios	Edad de los Metales	bronce
metales	Paleolítico	piedra tallada	6.000 años
8.000 años	poblados	ganadería	cerámica
piedra pulida	tejido	Neolítico	fuego
hierro	agricultura	cobre	ciudades
caza	recolección	homínidos	
2,5 millones de años	nómadas	cuevas y chozas	

La es la primera etapa de la historia. Se divide en tres periodos, y

El Paleolítico comenzó hace con la aparición de los Vivían en y eran, es decir, se trasladaban de un lugar a otro. Se dedicaban a la y la y usaban herramientas de En esta época descubrieron el

El Neolítico comenzó hace, cuando las personas descubrieron la y la Se hicieron y vivían en Elaboraron herramientas de e inventaron la y el

La Edad de los Metales empezó hace, cuando las personas comenzaron a utilizar los Primero usaron el, después el y luego el Las aldeas crecieron y se convirtieron en

3. Completa el texto con las palabras del recuadro.

cuneiforme – agricultura – Tigris – limo – jeroglífica – Éufrates – Nilo – ciudades

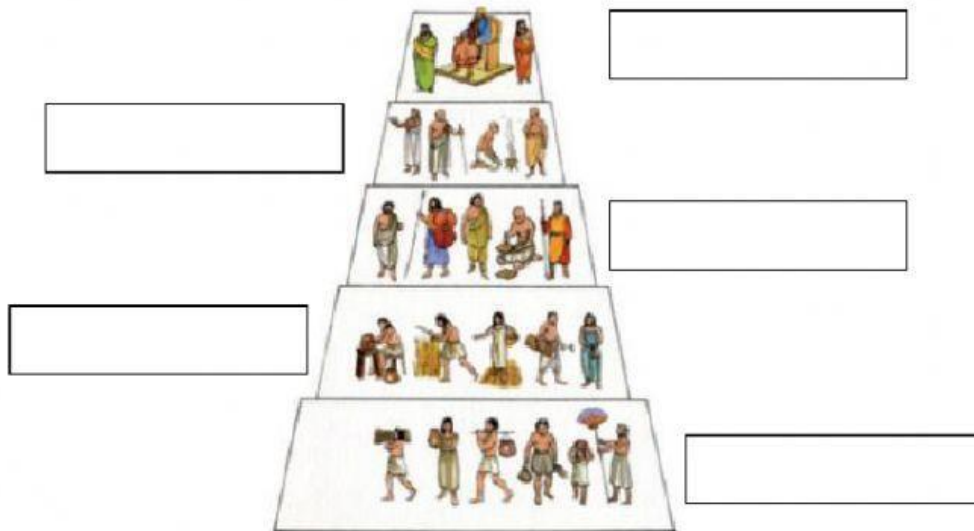
Mesopotamia significa tierra entre ríos. Esos ríos son el y el En su territorio podemos distinguir dos regiones principales: la Baja Mesopotamia y la Alta Mesopotamia. En Mesopotamia se desarrolló la escritura para llevar la contabilidad.

La civilización egipcia se desarrolló gracias al río, que cada verano se desbordaba y cubría de sus orillas fertilizando la tierra y permitiendo el desarrollo de la

Los egipcios aprendieron a controlar la inundación anual de las aguas del río y los poblados crecieron convirtiéndose en En el valle del Nilo se distinguen dos regiones naturales: el Alto Egipto, al norte, y el Bajo Egipto, al sur. Desarrollaron un sistema de escritura llamada

4. Completa la pirámide social de Mesopotamia colocando los nombres del recuadro.


artesanos y campesinos – funcionarios – rey y nobles – sacerdotes – esclavos




5. Identifica las siguientes construcciones: (1 punto)



Es un



Es un



Es un



Es un



Es una



Es una