

ใบงานคณิตศาสตร์ เรื่อง ความยาวรอบรูปของรูปสี่เหลี่ยมมุมฉาก

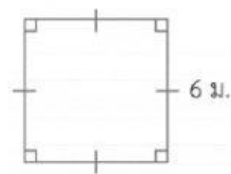
คำชี้แจง ให้นักเรียนเติมคำตอบลงในช่องว่างให้ถูกต้อง (ข้อละ 1 คะแนน)

1.



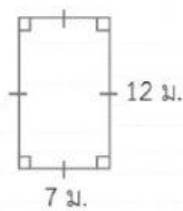
ความยาวรอบรูป _____ เซนติเมตร

2.



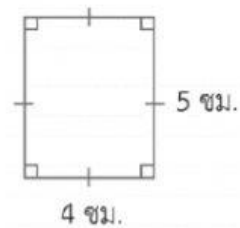
ความยาวรอบรูป _____ เซนติเมตร

3.



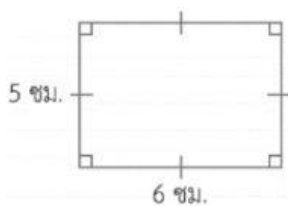
ความยาวรอบรูป _____ เซนติเมตร

4.



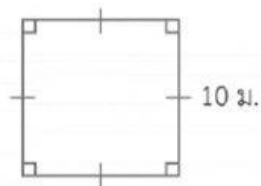
ความยาวรอบรูป _____ เซนติเมตร

5.



ความยาวรอบรูป _____ เซนติเมตร

6.



ความยาวรอบรูป _____ เซนติเมตร