



**PLANTEL EDUCATIVO "SAN AGUSTÍN"**  
Ciencia, disciplina y valores al servicio del hombre  
Guayllabamba – Quito – Ecuador

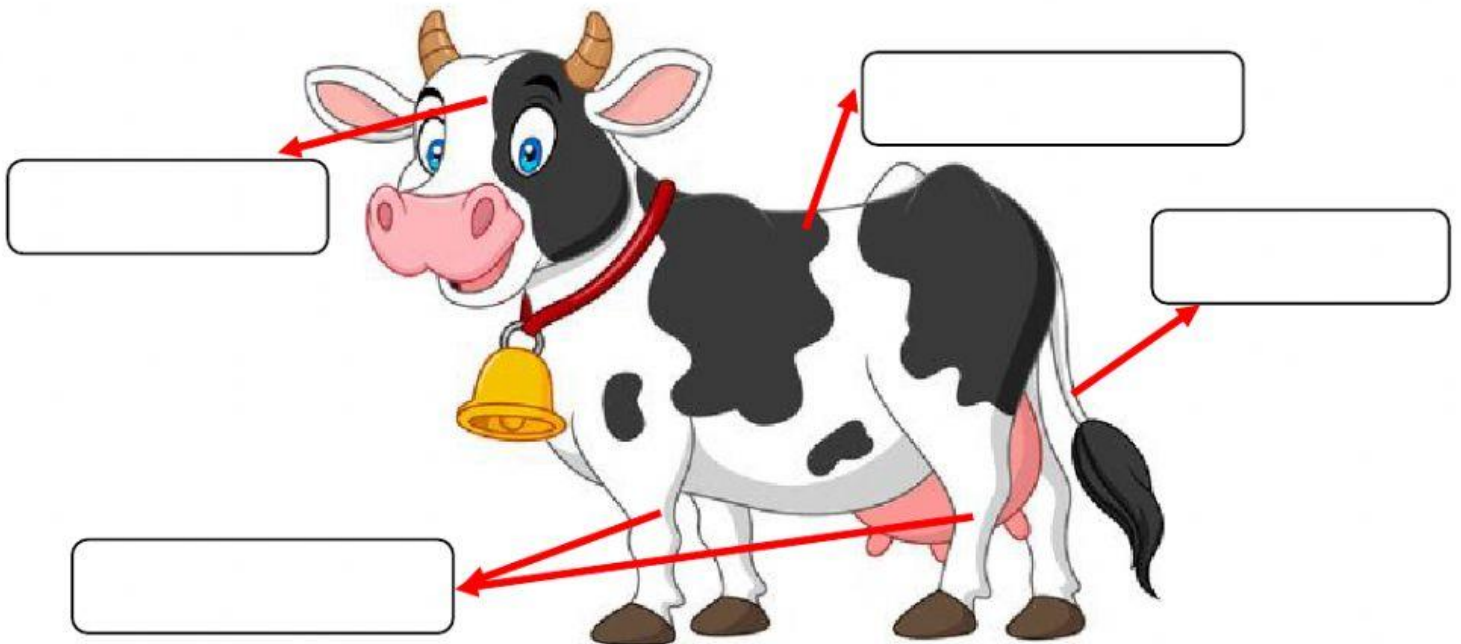
**AÑO LECTIVO: 2021 -2022**

**AÑO DE BÁSICA: TERCERO**

**DESTREZAS CORRESPONDIENTE AL PRIMER QUIMESTRE**

**CIENCIAS NATURALES**

1. Ubique el nombre de las partes del animal donde corresponda.




Cola

Extremidades


Cabeza

Tronco

2. Seleccione que estructura cube el cuerpo de los siguientes animales.



3. Ubique los animales donde corresponden según su forma de nacimiento.



Nacen de huevos son: **OVIPAROS**

Nacen del vientre de su madre son: **VIVIPAROS**

4. Una con una línea los animales según su alimentación



jaguar



cerdo

omnívoro

carnívoro

herbívoro



tortuga



oso

5. Seleccione los animales si son vertebrados o invertebrados, según correspondan.



Vertebrado

Invertebrado



Vertebrado

Invertebrado



Vertebrado

Invertebrado



Vertebrado

Invertebrado



Vertebrado

Invertebrado



Vertebrado

Invertebrado



Vertebrado

Invertebrado



Vertebrado

Invertebrado

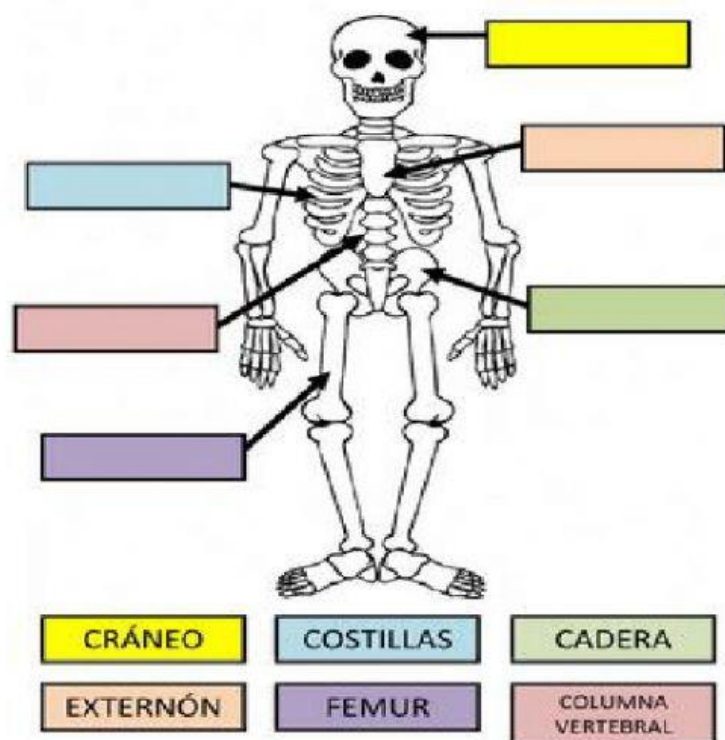
6. ¿Cuáles de los siguientes enunciados son correctos?

Se llama esqueleto al conjunto de huesos.

Comer muchos dulces fortalece los huesos.

Los huesos son las partes duras de nuestro cuerpo.

7. Coloque el nombre de los huesos donde corresponden.



8. Seleccione el musculo que más se utiliza para realizar la siguiente actividad.

Cuando nadamos utilizamos principalmente ...



glúteo

bíceps

abdominales

9. Conteste si es Verdadero o Falso. Los músculos son blandos y permiten el movimiento del cuerpo.

Verdadero

Falso

10. Seleccione los movimientos que realizan los músculos.

|             |
|-------------|
| Contracción |
| Gemelos     |
| Relajación  |
| Pectorales  |