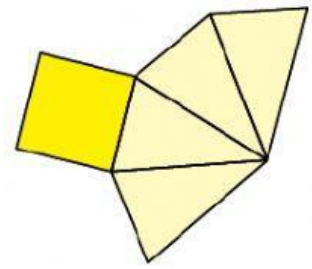
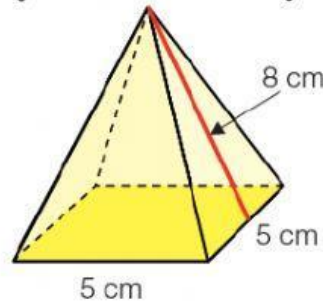
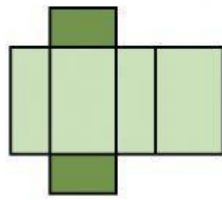
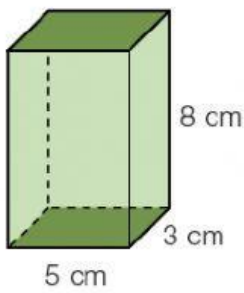


AREAS DE PRISMAS Y PIRÁMIDES

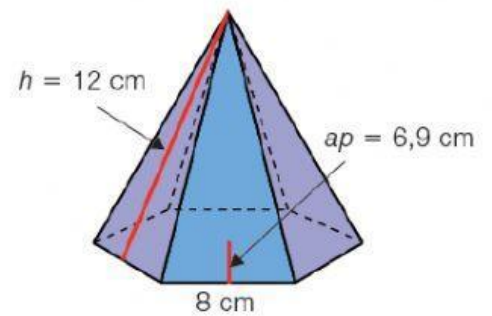
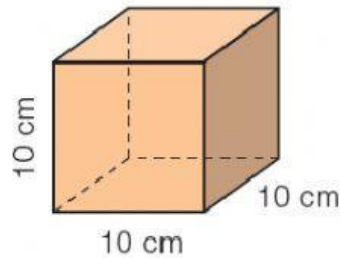
1. Calcula el área de cada cuerpo geométrico. Fíjate en su desarrollo.



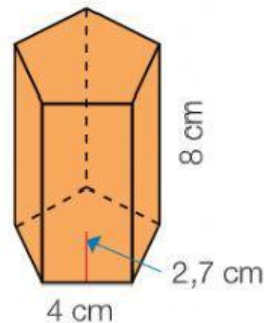
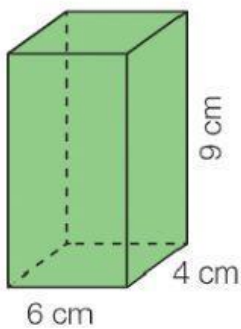
2. Calcula el área de cada cuerpo.

RECUERDA

El área de un polígono regular es igual al perímetro por la apotema dividido por 2.



3. Calcula el área de cada prisma.



4. Calcula el área de cada pirámide.

