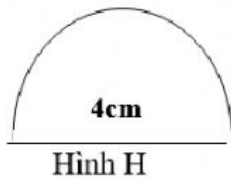


## PHIẾU BÀI TẬP TUẦN 19

**Bài 1:** Đường kính nửa hình tròn là 4cm . Diện tích hình H là:




A. 12,56 cm<sup>2</sup>    B. 6,28cm<sup>2</sup>

C. 12,56 cm    D. 6,28 cm

**Bài 2:** Đúng ghi Đ, sai ghi S:

A. Trong một hình tròn, đường kính dài gấp 2 lần bán kính.


B. Dụng cụ để vẽ đường tròn là ê-ke. 

C. Bán kính của 1 hình tròn là đường thẳng nối từ tâm

đến 1 điểm bất kì trên đường tròn

D. Tất cả bán kính của một hình tròn có độ dài khác nhau.

**Bài 3:**

a) Muốn tính chu vi hình tròn ta lấy... 

b) Muốn tính diện tích hình ta lấy ...

**Bài 4:** Diện tích hình tròn có chu vi 6,28 cm là:

A. 12,56 cm<sup>2</sup>    B. 1256 cm<sup>2</sup>

C. 3,14 cm    D. 3,14 cm<sup>2</sup>

