



FORMANDO PERSONAS  
FELICES E INTELIGENTES

# BELL ACADEMY

UNIDAD EDUCATIVA PARTICULAR

## INSTRUMENTO TÉCNICO DE EVALUACIÓN

### QUIMESTRE 1

AÑO LECTIVO

2021- 2022

NIVEL: BACHILLERATO	ÁREA: MATEMÁTICAS	ASIGNATURA: MATEMÁTICAS
AÑO / CURSO: 3ro EGB	GRUPO/PARALELO A	FECHA DE ENTREGA:
DOCENTE: Mgst. Lourdes Campoverde		UNIDAD: 2
TIPO DE ACTIVIDAD: Evaluación Primer Quimestre		
NOMBRE DEL ESTUDIANTE		

Lee con atención y responde el siguiente cuestionario.

1. Coloca la letra de la secuencia en el patrón que corresponda.

- a. 

105	110	115	120
-----	-----	-----	-----

+8
----
- b. 

410	400	390	380
-----	-----	-----	-----

+5
----
- c. 

450	400	350	300
-----	-----	-----	-----

-10
-----
- d. 

260	268	276	284
-----	-----	-----	-----

-50
-----

2. Completa la descomposición y escribe el número

- a. 4 C 2 D 7 U = 

--	--	--

 + 

--	--

 + 

--

 = 

--	--	--
- b. 1 C 0 D 9 U = 

--	--	--

 + 

--	--

 + 

--

 = 

--	--	--
- c. 3 C 8 D 1 U = 

--	--	--

 + 

--	--

 + 

--

 = 

--	--	--
- d. 2 C 4 D 6 U = 

--	--	--

 + 

--	--

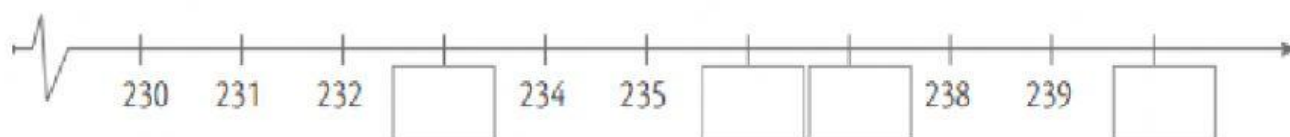
 + 

--

 = 

--	--	--

3. Completa la semirrecta los números que faltan.





FORMANDO PERSONAS  
FELICES E INTELIGENTES

# BELL ACADEMY

UNIDAD EDUCATIVA PARTICULAR

## INSTRUMENTO TÉCNICO DE EVALUACIÓN

### QUIMESTRE 1

AÑO LECTIVO

2021- 2022

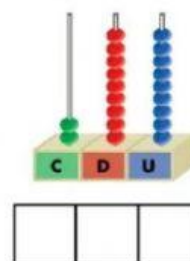
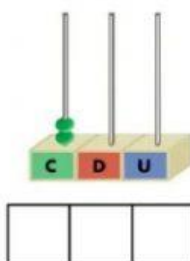
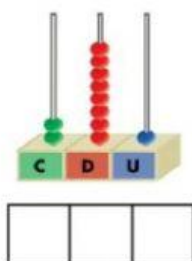
4. Escribe frente a cada número como se lee.

a.	499	
b.	398	
c.	201	
d.	177	

5. Coloca =, <, > según corresponda.

390		395		129		139
237		199		450		450

6. Escribe la cifra que indica cada ábaco.



7. Coloca la letra de cada numero en el nombre que corresponde.

A	254
B	201
C	276
D	285
E	239

doscientos uno
doscientos ochenta y cinco
doscientos cincuenta y cuatro
doscientos veintiocho
doscientos treinta y nueve



FORMANDO PERSONAS  
FELICES E INTELIGENTES

# BELL ACADEMY

UNIDAD EDUCATIVA PARTICULAR

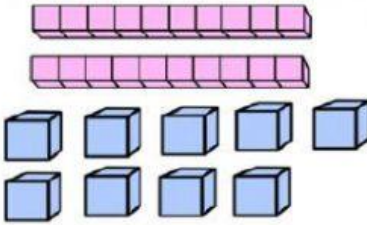
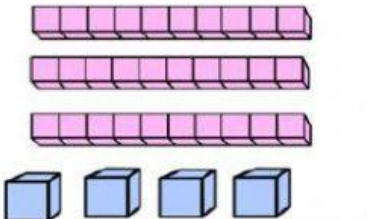
## INSTRUMENTO TÉCNICO DE EVALUACIÓN

QUIMESTRE 1

AÑO LECTIVO

2021- 2022

8. Escribe las cifras que representa en la Base 10 y resuelve las operaciones.

	<div><input type="text"/> decenas y <input type="text"/> unidades</div> <div><input type="text"/> + <input type="text"/> = <input type="text"/></div> <div>_____</div>
	<div><input type="text"/> decenas y <input type="text"/> unidades</div> <div><input type="text"/> + <input type="text"/> = <input type="text"/></div> <div>_____</div>

9. Resuelve las siguientes adiciones

$$\begin{array}{r} 235 \\ + 579 \\ \hline \end{array}$$

$$\begin{array}{r} 387 \\ + 485 \\ \hline \end{array}$$

$$\begin{array}{r} 469 \\ + 732 \\ \hline \end{array}$$

$$\begin{array}{r} 546 \\ + 473 \\ \hline \end{array}$$

10. Resuelve las siguientes sustracciones:

$$\begin{array}{r} 78 \\ - 65 \\ \hline \end{array}$$

$$\begin{array}{r} 85 \\ - 71 \\ \hline \end{array}$$

$$\begin{array}{r} 39 \\ - 23 \\ \hline \end{array}$$

$$\begin{array}{r} 76 \\ - 15 \\ \hline \end{array}$$