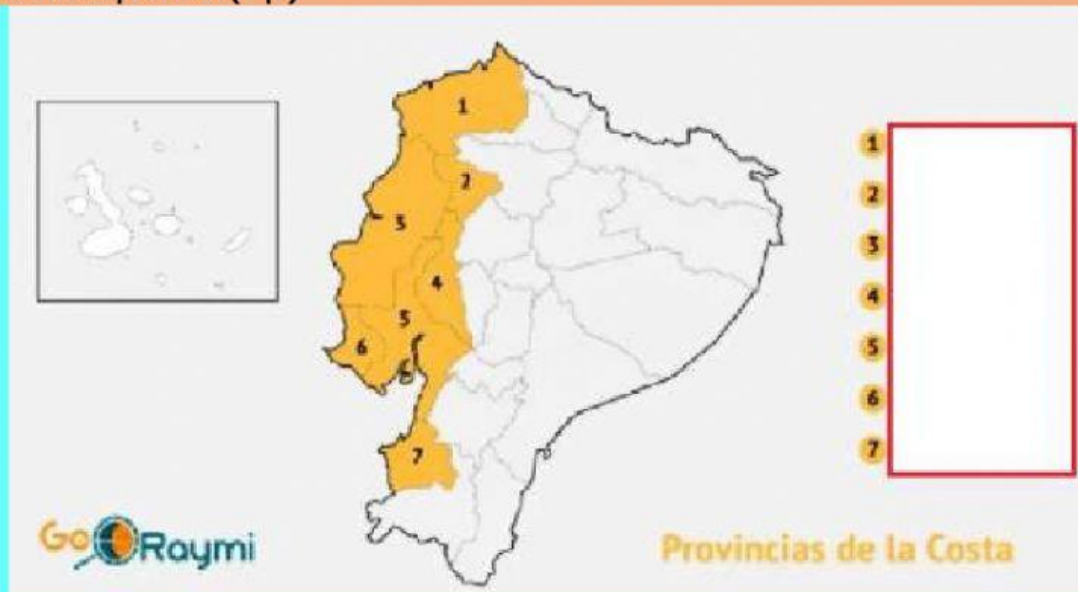


ESTUDIOS SOCIALES-UNIDAD 1

1. Identifico y escribo en el recuadro los nombres de las provincias que corresponda(7p)



2.- Completo en los espacios las palabras según el enunciado(5p)

campo

agricultura

montuvio

cultura

ganadería








El pueblo _____ habita en la región Costa. Su _____ se relaciona con la _____ y la _____ ya que vive principalmente en el _____.

3.- Uno las provincias según la actividad a la que se dedicaban(4p)

Manabí	
Santo Domingo	
Santa Elena	
Guayas	

Museo de los amantes del Sumpa
Comercio, agricultura
Café, cacao, fábricas de enlatados de atún y sardina.
Cambio de productos

4.- Uno las provincias con sus capitales (7p)

ESMERALDAS			SANTO DOMINGO
MANABÍ			BABAHOYO
SANTO DOMINGO DE LOS TSÁCHILAS			GUAYAQUIL
LOS RÍOS			SANTA ELENA
GUAYAS			MACHALA
SANTA ELENA			ESMERALDAS
EL ORO			PORTOVIEJO