



UNIDAD EDUCATIVA DEL MILENIO "COCHASQUÍ"

Tabacundo – Ecuador

AÑO LECTIVO 2021 – 2022



INSTRUMENTO DE EVALUACIÓN

I.- DATOS INFORMATIVOS:

TIPO DE INSTRUMENTO:			EXAMEN QUIMESTRAL		
TIPO DE TÉCNICA:	FORMAL	TÉCNICA:	PRUEBA ESCRITA	INSTRUMENTO:	Cuestionario de Base Estructurada
QUIMESTRE:	PRIMERO	PARCIAL:	1	ADICIONAL:	NO APLICA
ÁREA:	CIENCIAS NATURALES		ASIGNATURA:	CIENCIAS NATURALES	
JORNADA:	MATUTINA	NIVEL – SUBNIVEL:	E.G.B. MEDIA	GRADO/CURSO:	7MO
DOCENTE:	PROF. JOHANA MAFLA			PARALELO:	<div>○A</div> <div>○B</div>
ESTUDIANTE:			CALIFICACIÓN:	<div></div> <div>10</div>
FECHA:				

II.- INSTRUCCIONES GENERALES:

- ✓ Lee detenidamente las preguntas planteadas.
 - ✓ Si tienes dificultad en responder alguna pregunta, pasa a la siguiente. **OPTIMIZA EL TIEMPO.**
 - ✓ Utiliza únicamente esferográfico de tinta azul para señalar el literal de la respuesta que consideres correcta, los procedimientos con lápiz.
 - ✓ Evita enmendaduras (tachones, manchones, correcciones, borrones) por cuanto la respuesta será **ANULADA**.
 - ✓ Una vez terminada la prueba firma en el apartado correspondiente.
 - ✓ La evaluación será calificada sobre 10 puntos. Cada pregunta tiene especificada su puntuación.
 - ✓ **CE.:** Criterio de Evaluación e **I.M.:** Indicador de Evaluación.
 - ✓ Demuestra tu honestidad académica durante la realización de la evaluación y evita acciones educativas disciplinarias Art. 224 (Tipo II); Art. 330; Art. 331
- "Cambia tus pensamientos y cambiarás tu mundo" - Norman Vincent Peale**

III.- DESARROLLO:

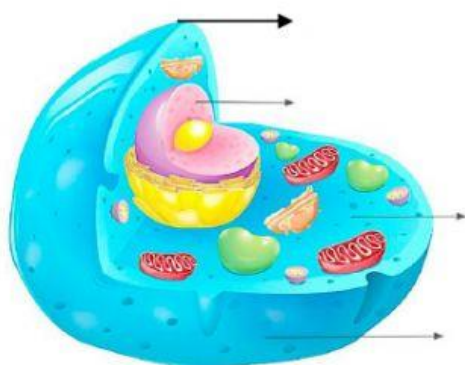
COGNITIVAS:

CE.CN.3.2.
Identifica las diferencias e importancia del ciclo reproductivo, tipo de célula que posee los animales vertebrados de las regiones naturales del Ecuador, para el mantenimiento de la vida., (I.CN.3.1.2.) (J.3.)

1. Indica el literal que completa correctamente el texto: (0,50 puntos)

- La célula es la unidad _____ de la vida, la unidad más pequeña que forma un ser vivo.
- El _____ es el material _____ de la célula. Es el responsable de controlar el _____ celular.
- El _____ es el espacio interior donde se encuentran los distintos componentes de la célula.

2. Selecciona la respuesta correcta sobre las partes de la célula animal (0,5 puntos)





3. Relaciona los términos con sus definiciones correspondientes y selecciona la respuesta correcta. (0,5 puntos)

TÉRMINO	DEFINICIÓN
Lente ocular	Son los lentes más próximos al objeto que queremos observar
Platina	Ilumina la muestra.
Objetivos	Pinza giratoria que sostiene los objetos.
Fuente de luz	Donde colocamos la muestra. Tiene un orificio por donde pasa la luz.
Tornillos	Aumentan la imagen que llega al objetivo.
Revólver	Permite enfocar la imagen. El macrométrico sirve para un enfoque rápido y el micrométrico sirve para un enfoque preciso.
Pie	Base que sostiene el microscopio

4. Relaciona el grafico con el reino correspondiente y selecciona el literal correcto. (0,5 puntos)

 bacterias	 setas	 algas	 planta sin flor	 vertebrados

5. Elige la opción que corresponde a las partes de un hongo (0,5 puntos)

LAS PARTES DE UN HONGO SON:

Respuestas:

- a) sombrero, láminas, pie, volva, anillo.
- b) setas, protoctistas, pie, algas, volva
- c) láminas, pistilo, filamento, anillo, corola
- d) pie, antera, anillo, filamento, sombrero

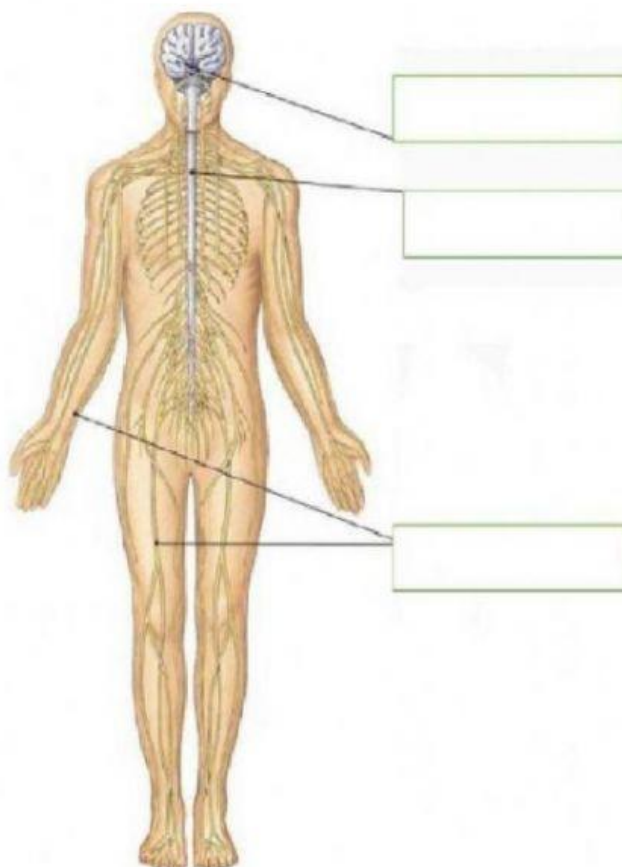




6. Relaciona según corresponda (0,50 puntos)

<i>ANIMALES</i>	<i>GRUPO AL QUE PERTENECE</i>
Mamíferos	
Anélidos	
Artrópodos	
Anfibios	
Cnidarios	
Reptiles	
Aves	
Moluscos	

7. Escoge la respuesta correcta sobre las partes fundamentales del sistema nervioso: (0,50 puntos)



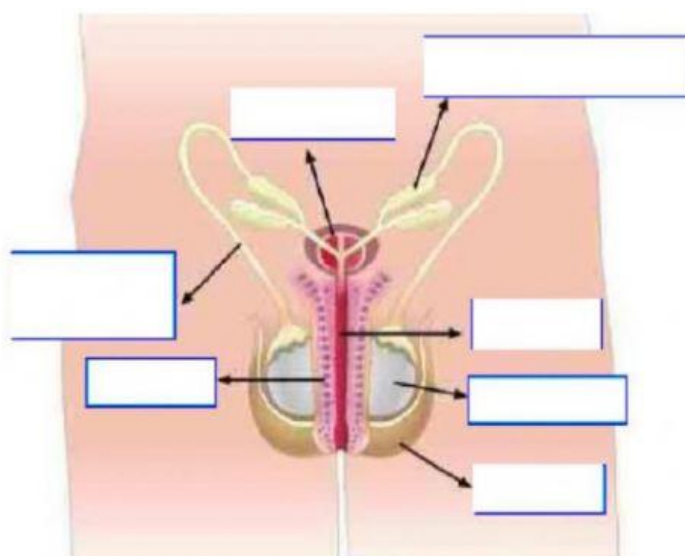


CE.CN.3.4.

I.CN.3.4.1. Establece relaciones entre el sistema reproductivo, endócrino y nervioso, a partir de su estructura, funciones e influencia en los cambios que se presentan en la pubertad. (J.3., J.4.)

1. Identifica las partes del aparato reproductor masculino. (0,50 puntos)

Las partes del aparato reproductivo son:



➤ **METACOGNITIVAS:**

1. Seleccione los proyectos que se desarrolló durante el quimestre (2 puntos)

- a) Las Norma de cuidado de la salud
- b) Las Normas de convivencia armónica
- c) Todos nos cuidamos con responsabilidad
- d) "El cuidado de la salud integral"
- e) Si te cuidas y nos cuidamos... ¡¡¡contribuimos a la sociedad!!!
- f) Reafirmo mi compromiso del cuidado del Medio Ambiente.

2. De los siguientes Proyecto escribe **SÍ o **NO** te pareció difícil de realizar (2 puntos)**

- a) Las Norma de cuidado de la salud
- b) Las Normas de convivencia armónica
- c) "El cuidado de la salud integral"
- d) Reafirmo mi compromiso del cuidado del Medio Ambiente.



INSTRUMENTO DE EVALUACIÓN

3. ¿Qué productos obtenidos en los proyectos interdisciplinarios en los que participó la asignatura de Ciencias Naturales fueron de gran utilidad? ¿Por qué? (2 puntos)

- El díptico sobre las normas de convivencia armónica porque nos permitió descubrir lo importante de vivir armónicamente con la naturaleza mediante el cuidado del medio ambiente y cuidar la vida humana.
- Infografía de Las Normas de cuidado de la salud porque descubrí lo importante de la comunicación escrita al momento de la publicación
- Infografía el cuidado de la salud integral porque nos permitió conocer la importancia del cuidado de nuestro cuerpo y practicar hábitos saludables.
- El díptico sobre Las Normas de convivencia armónica porque puede comunicar con creatividad de organización a través de la estructura del folleto.

➤ AUTOREGULACIÓN:

Escribe la respuesta según tu criterio **sí – no o necesito ayuda**

Entiendo la importancia que tiene el cuidado del medio ambiente y cuidar la vida humana.	
Entiendo la importancia que tiene el cuidado de nuestro cuerpo y practicar hábitos saludables.	
Observo mi cuerpo y puedo describir mis partes y la función que cumple cada uno de nuestros órganos.	

IV.- VALIDACIÓN DEL INSTRUMENTO DE EVALUACIÓN:

DISEÑADO	REVISADO	APROBADO
Prof. Johana Mafla DOCENTE	Prof. Carmen Quilumba COORDINADOR/A DE SUBNIVEL/ÁREA	Lic. Francisco Coyago VICERRECTOR (E)
FECHA: 13/01/2022	FECHA: 13/01/2022	FECHA:
FIRMA:	FIRMA:	FIRMA Y SELLO:
.....
FIRMA DE RECEPCIÓN Y ACEPTACIÓN DE LA NOTA		
REPRESENTANTE LEGAL:	ESTUDIANTE:	
CEDULA DE IDENTIDAD:	CEDULA DE IDENTIDAD:	
FECHA:	FECHA:	
FIRMA:	FIRMA:	
.....	