

## LEMBAR KERJA PESERTA DIDIK

Muatan : SBdP Tema 7 Interval Nada KD 3.2

Nama :





No. Absen :

Kelas :

Hari / Tanggal :

### I. Pilihlah Jawaban yang Tepat.

1. Bunyi yang beraturan serta memiliki tinggi dan rendah yang berbeda –beda disebut...
  - a. interval nada
  - b. nada
  - c. tangga nada
  - d. irama
2. Selain tinggi dan rendahnya nada, nada dalam lagu juga memiliki jarak. Jarak antar 1 nada dengan nada lainnya dinamakan . . .
  - a. tangga nada
  - b. irama
  - c. Interval nada
  - d. nada
3. Berikut ini yang merupakan ciri-ciri tangga nada mayor adalah . . .
  - a. bersifat sedih
  - b. bersemangat
  - c. biasanya diawali dan diakhiri dengan nada la = A
  - d. mempunyai pola interval :1.1/2, 1, 1. 1/2, 1,1
4. Lagu dengan tangga nada diatonis mayor biasanya terkesan . . .
  - a. sedih
  - b. sendu
  - c. merdu
  - d. gembira
5. Lagu Bubuy Bulan dan Lir-lir termasuk bentuk lagu . . .
  - a. daerah
  - b. dangdut
  - c. keroncong
  - d. relig

6. Tangga nada yang memberikan kesan sedih adalah tangga nada ...
- mayor
  - slendro
  - minor
  - pelog
7. Tanda yang digunakan untuk menaik, menurunkan, atau mengembalikan nada yang telah dinaikan atau diturunkan. Disebut dengan tanda ...
- kromatik
  - interval nada
  - tempo
  - tangga nada
8. Perhatikan judul lagu wajib berikut!
- (1) Gugur Bunga
  - (2) Maju Tak Gentar
  - (3) Syukur
  - (4) Hymne Guru
- Kelompok lagu wajib yang menggunakan tangga nada diatonis minor adalah ...
- 1,2, dan 3
  - 2,3, dan 4
  - 3,4, dan 1
  - 4,1, dan 2
9. Lagu dengan diatonis minor biasanya diawali dan diakhiri dengan nada ...
- C = do
  - D = do
  - F = do
  - A = la
10. Tanda kromatik "Mol" diberi lambang ...
- |                                                                                        |                                                                                        |
|----------------------------------------------------------------------------------------|----------------------------------------------------------------------------------------|
| a.  | c.  |
| b.  | d.  |