

## Problemi illustrati

Un apicoltore ha 15 arnie.  
Da **ogni** arnia prende 7 barattoli di miele.  
Quanti barattoli di miele ha in tutto?

## DATI

COSA	QUANTI
	_____
 <p>In <b>ogni</b> arnia</p> <p>1 kg</p>	_____
DOMANDA	OPERAZIONE
 <p>In tutto</p> <p>1 kg</p>	_____ = _____

[illegible]

Una bancarella ha 23 cesti rotondi e 5 rettangolari.  
Quanti cesti ci sono in tutto?

## DATI



cosa	quanti
	<hr/>
	<hr/>
DOMANDA	OPERAZIONE
 	<hr/> <hr/> <hr/> <hr/>




## Problemi illustrati

Nella fattoria ci sono 31 galline e 12 conigli.  
Quanti animali ci sono in tutto?

## DATI

cosa	quanti
	_____
	_____
DOMANDA	OPERAZIONE
 	_____ = _____

[illegible]

Per **ogni** vaschetta di tiramisù la mamma utilizza 36 savoiardi.  
La mamma prepara 8 vaschette di tiramisù.  
Quanti savoiardi utilizza in tutto?

## DATI

cosa	quanti
 <p>In ogni vaschetta</p>	_____
	_____
DOMANDA	OPERAZIONE
 <p>In tutto?</p>	<p>_____ = _____</p>

