

PHIẾU BÀI TẬP TUẦN 13

Họ và tên:.....

Lớp:.....



Câu 1: Tính:

$23 \text{ kg} + 15 \text{ kg} + 17 \text{ kg} =$

$94 \text{ kg} - 12 \text{ kg} - 38 \text{ kg} =$

$48 \text{ kg} + 18 \text{ kg} - 24 \text{ kg} =$

$100 \text{ kg} - 85 \text{ kg} + 29 \text{ kg} =$

Câu 2: Chọn kết quả đúng với phép tính:

98 - 32

40 - 5

67 - 54

58

66

13

35

89

58

54 - 36

78 - 20

99 - 10

Câu 3: Điền dấu >, <, = :

42 - 18 ○ 25

95 - 23 ○ 54

36 - 19 ○ 17

87 - 78 ○ 23







Câu 4: Một cửa hàng bán trái cây, buổi sáng bán được 50 trái dưa hấu, buổi chiều bán được ít hơn buổi sáng 32 trái dưa hấu. Hỏi buổi chiều cửa hàng bán được bao nhiêu trái dưa hấu?



Phép tính ○ ○ ○ ○ ○

Buổi chiều cửa hàng bán được ○ trái dưa hấu

Câu 5: Tính nhẩm:

$100 - 20 =$		$100 - 60 =$	
$100 - 90 =$		$100 - 0 =$	
$100 - 50 =$		$100 - 100 =$	



Câu 6 : Đúng ghi Đ, sai ghi S :

a) $100 - 32 < 62 + 18$

b) $68 - 24 = 22 + 22$

c) $78 - 56 = 43 - 13$

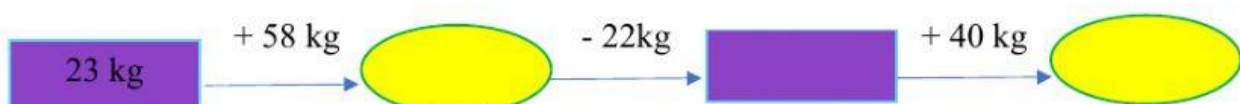
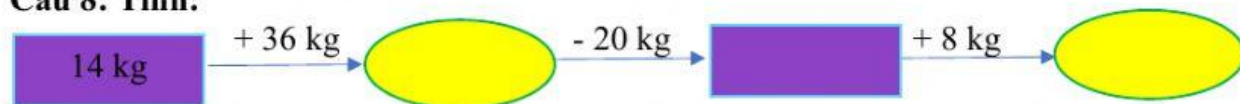
d) $63 - 10 > 23 + 20$

Câu 7: Viết kết quả phép tính vào ô trống:

Số bị trừ	89	57	100	89	95	78
Số trừ	20	18	90	56	54	29
Hiệu						



Câu 8: Tính:



Câu 9: Hoa cân nặng 25kg, Hùng nặng hơn Hoa 6kg. Hỏi Hùng cân nặng bao nhiêu ki-lô-gam?



Phép tính



Hùng nặng



ki-lô-gam

Câu 10: Nối cột A với cột B để được kết quả đúng:

A

50 cm + 3 dm

12 cm + 5 dm

40 cm + 5 dm

23 cm + 27 cm

B

90 cm

80 cm

62 cm

50 cm

