








**NOMBRE:**

ESCRIBE LAS FÓRMULAS, EL NOMBRE DE CADA FIGURA CON PURAS MAYÚSCULAS Y ARRASTRA LAS FÓRMULAS

FIGURA Y NOMBRE	PERIMETRO
	$P=$ $A=$
	$P=$ $A=$
	$P=$ $A=$
	$P=$ $A=$
	$P=$ $A=$
	$P=$ $A=$
	$P=$ $A=$

$$A = b \times h$$

$$A = \frac{D \times d}{2}$$

$$A = \frac{b \times h}{2}$$

$$A = \frac{P \times a}{2}$$

$$A = L \times L$$

$$A = \frac{(B + b) \times h}{2}$$

$$A = b \times h$$