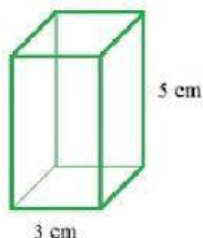


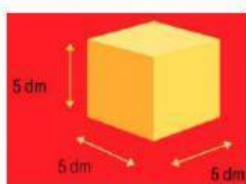
VOLUMEN DE CUBO Y PRISMA CUADRANGULAR

Nombre del alumno: _____ Grado: _____ Grupo: _____

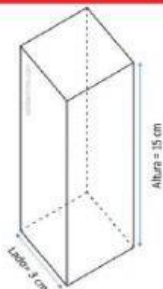
Instrucciones: Resuelve los siguientes ejercicios y une con una línea las respuestas que mejor convengan.



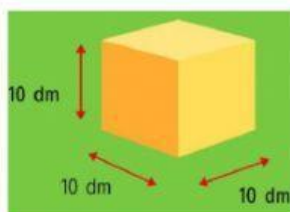
8000 dm³



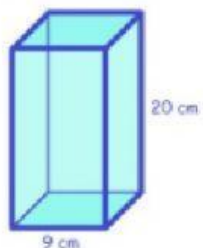
45 cm³



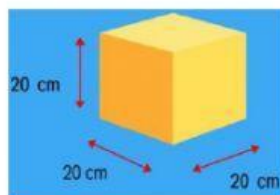
1620 dm³



135 cm³

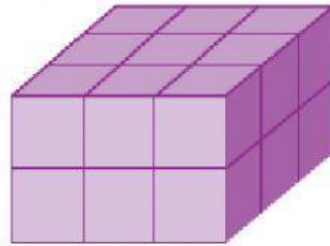
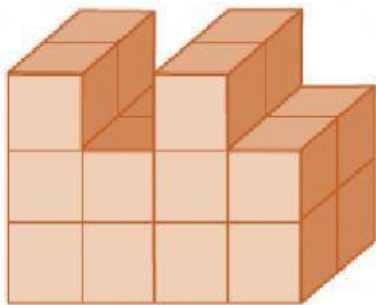

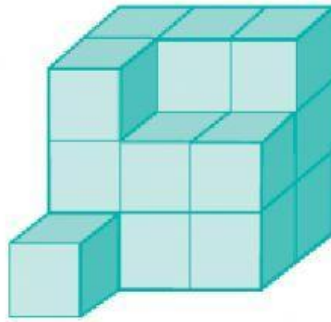
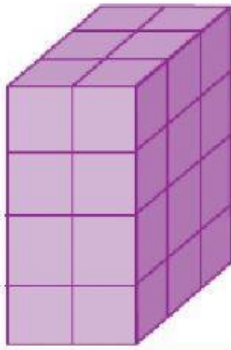


125 dm³



1000 dm³

Arrastra la respuesta que consideres correcta en los volúmenes de las siguientes figuras.



18 unidades

24 unidades

16 unidades

17 unidades

20 unidades