

Visto:

Data: ____/____/2022

Professor(a):

Série / Ano:

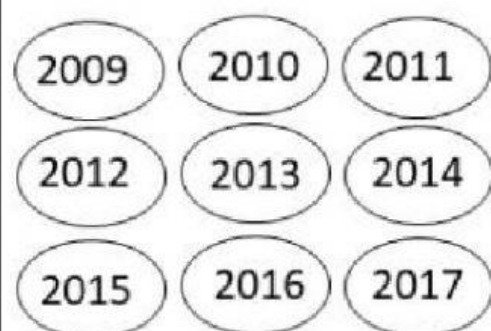
Turma:

Aluno(a):

DISCIPLINA: MATEMÁTICA.

OS NÚMEROS NA MINHA VIDA

PINTE O ANO DO SEU NASCIMENTO.

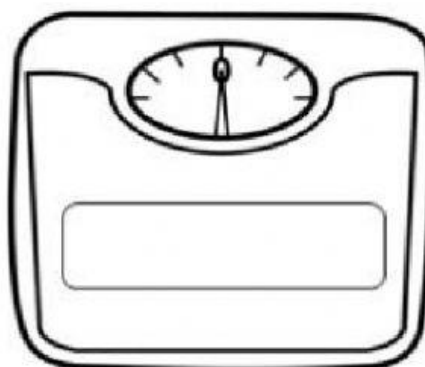


PINTE NA GRADE O NÚMERO QUE REPRESENTA O DIA DO SEU ANIVERSÁRIO.

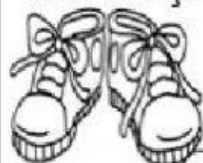
1	2	3	4	5	6	7
8	9	10	11	12	13	14
15	16	17	18	19	20	21
22	23	24	25	26	27	28
29	30	31				



ANOTE SEU PESO NA BALANÇA.



REGISTRE ABAIXO O NÚMERO DE SEU CALÇADO.



USE UMA FITA MÉTRICA PARA SABER SUA ALTURA E REGISTRE-A ABAIXO.



QUEM VEM ANTES?

<input type="text"/>	←	7	<input type="text"/>	←	2	<input type="text"/>	←	9
----------------------	---	---	----------------------	---	---	----------------------	---	---

QUEM VEM DEPOIS?

4	→	<input type="text"/>	2	→	<input type="text"/>	0	→	<input type="text"/>
---	---	----------------------	---	---	----------------------	---	---	----------------------

QUEM ESTÁ ENTRE?

3	←	<input type="text"/>	→	5	7	←	<input type="text"/>	→	9
0	←	<input type="text"/>	→	2	4	←	<input type="text"/>	→	6
6	←	<input type="text"/>	→	8	1	←	<input type="text"/>	→	3



TENHO MUITO ORGULHO DE VOCÊ!

BEIJOS DA PROFA!