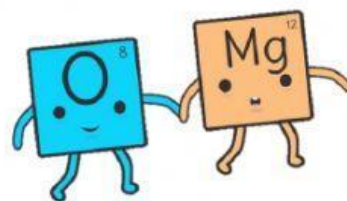
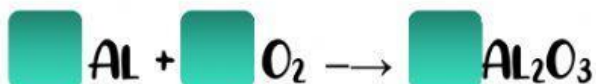


Ciencias

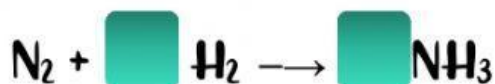


SECUENCIA 8

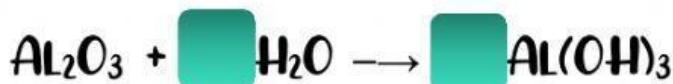
Actividad 1: Realiza el balanceo de las siguientes ecuaciones y completa correctamente cada tabla. Encuentra la masa molar de los productos **BALANCEADOS**.



Elementos	Reactivos	Productos	Masa molar del Al_2O_3
Aluminio			
Oxígeno			



Elementos	Reactivos	Productos	Masa molar del NH_3
Nitrógeno			
Hidrogeno			



Elementos	Reactivos	Productos	Masa molar del $\text{Al}(\text{OH})_3$
Aluminio			
Oxígeno			
Hidrogeno			



Elementos	Reactivos	Productos	Masa molar del CO_2	Masa molar del H_2O
Carbono				
Hidrogeno				
Oxígeno				

