



ASIGNATURA: ESTUDIOS SOCIALES

EVALUACIÓN QUIMESTRAL

1. Relaciona cada continente con su respectivo nombre.

ÁFRICA

ÁSIA

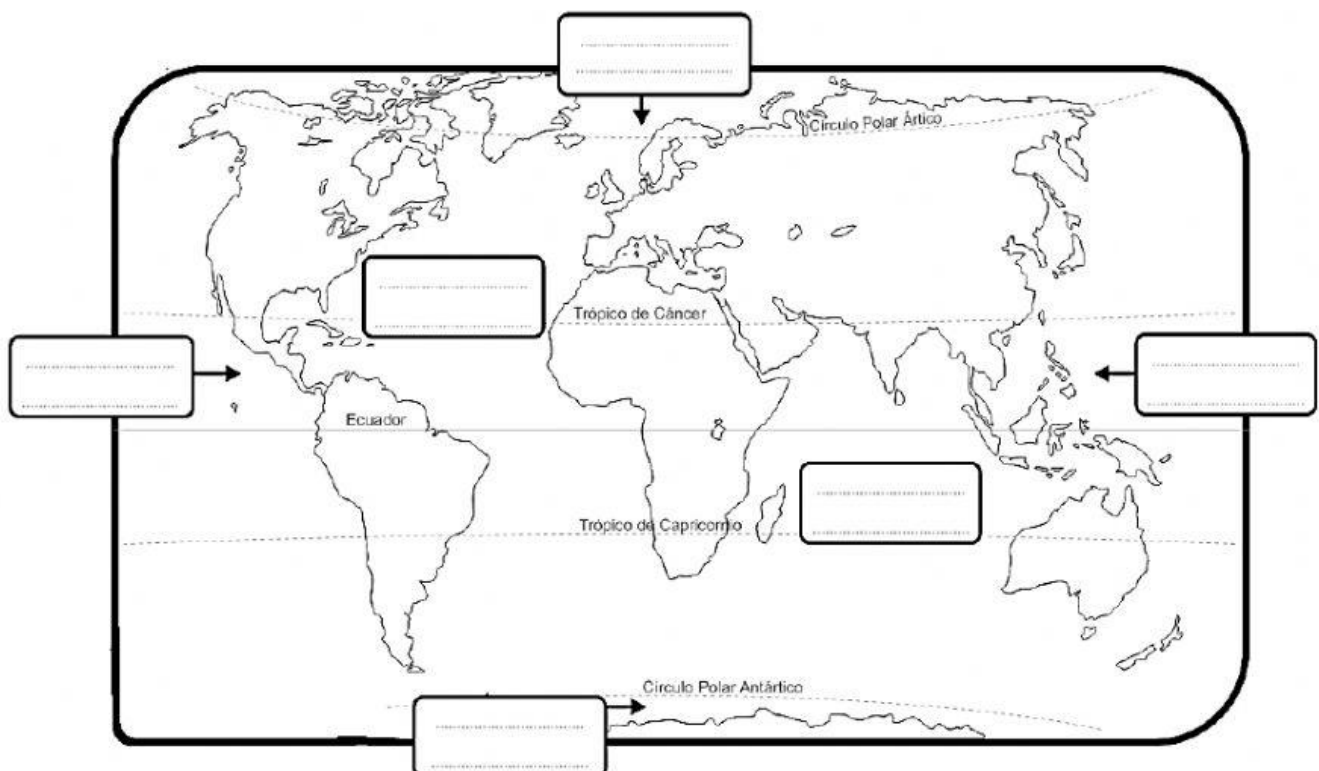
AMÉRICA

EUROPA

ANTÁRTIDA

OCEANÍA

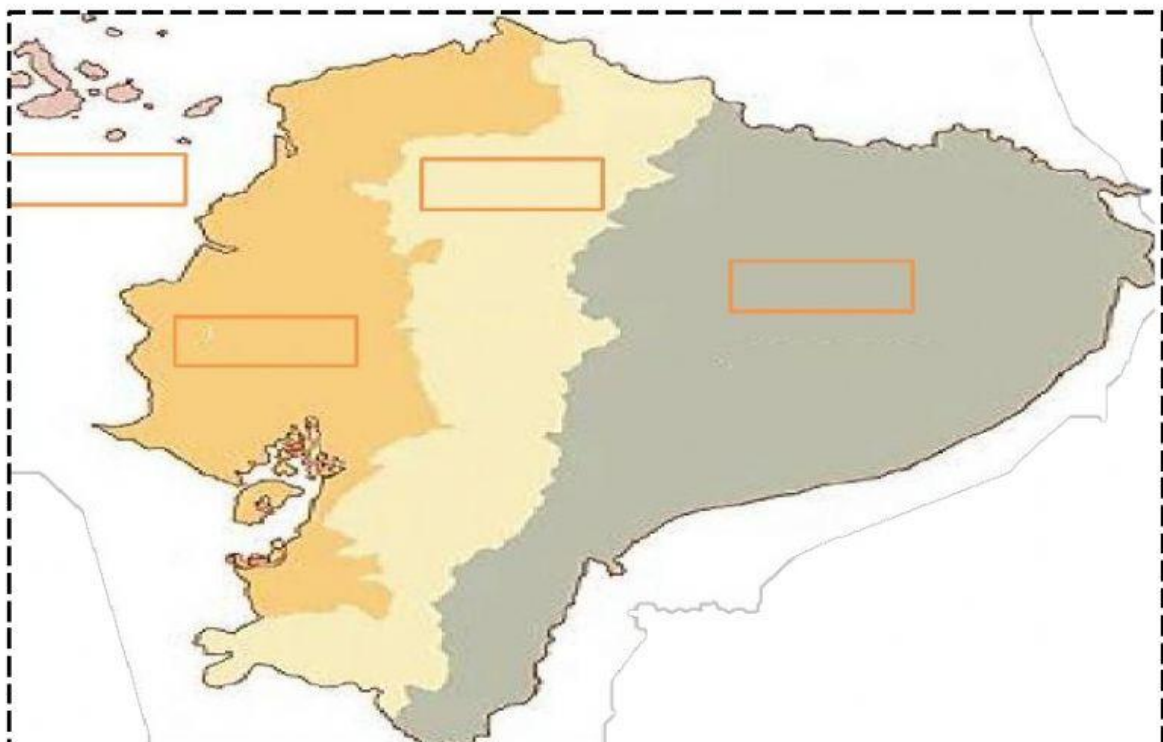
2. Escribe el nombre de los océanos que rodean al continente americano.



3. Escribe el nombre correspondiente de cada grupo étnico.



4. Escribe el nombre de las regiones del Ecuador.



5. Relaciona cada señalética con su respectiva función.

Preventivas

Proporciona información sobre los servicios y lugares que podemos encontrar en el camino.










Reglamentarias

Tienen como objetivo mostrar los límites y prohibiciones que hay en el camino.

informativas

Tienen como objetivo mostrar al conductor los riesgos que se pueden presentar en el camino.

6. Clasifica las señales de tránsito según corresponda.

Informativas	Reglamentarias	Preventivas
		
		
		



9. Relaciona cada color del semáforo con su respectivo significado.



Nos indica que los peatones se tienen que detener en su totalidad para que los carros puedan circular.

Nos indica que los carros y peatones deben tomar las debidas precauciones

Nos indica que los carros se tienen que detener en su totalidad para dar paso a los peatones.

10. Relaciona cada color de la bandera con su debido significado.



Simboliza el océano y el claro y trasparente cielo ecuatoriano.

Simboliza la sangre inocente derramada por los españoles.

Simboliza el oro, el sol y las riquezas del país.

11. Selecciona si es un deber o un derecho.

