

LATIHAN PENILAIAN HARIAN
MUATAN PELAJARAN MATEMATIKA
TEMA 5 SUB TEMA 1 DAN SUB TEMA 2


Nama: _____ Kelas: _____ Tanggal: _____

A. Pilihlah jawaban yang paling tepat!

1. Ibu memotong kue menjadi 6 bagian sama besar. Nina mengambil dua potong kue. Pecahan yang menunjukkan banyak kue yang diambil Nina adalah

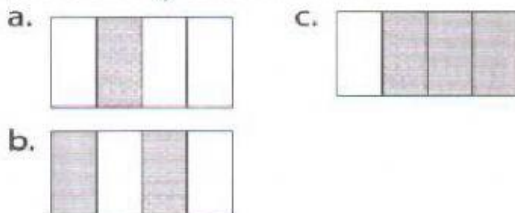
a. $\frac{2}{6}$ c. $\frac{6}{6}$
b. $\frac{4}{6}$

2. Satu potong pizza pada gambar di samping dapat dinyatakan dengan pecahan



a. $\frac{1}{8}$ c. $\frac{1}{6}$
b. $\frac{1}{7}$

3. Gambar yang arsirannya menyatakan pecahan $\frac{3}{4}$ adalah



Toni mengambil 3 potong semangka tersebut. Banyak semangka yang diambil Toni menunjukkan pecahan


a. $\frac{3}{6}$ c. $\frac{3}{10}$
b. $\frac{3}{8}$

4. Perhatikan gambar berikut!

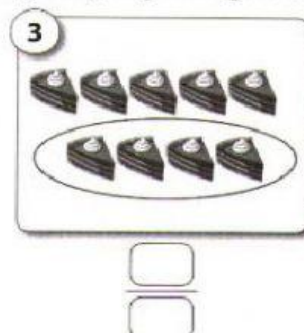



5. Bagian yang diarsir pada gambar berikut menunjukkan pecahan

a. $\frac{4}{8}$
b. $\frac{6}{8}$
c. $\frac{7}{8}$

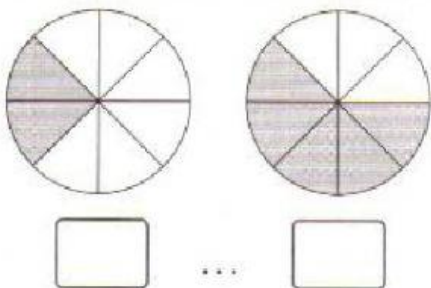


B. Tulislah lambang pecahan yang tepat sesuai bagian yang dilingkari!

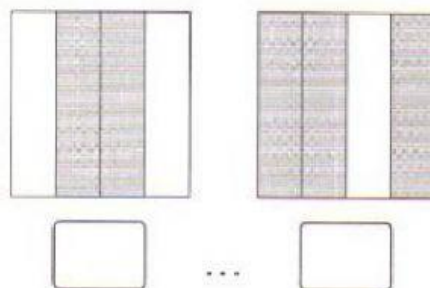


A. Tulislah pecahan sesuai bagian yang diarsir! Setelah itu, isilah titik-titik dengan tanda < atau > yang tepat!

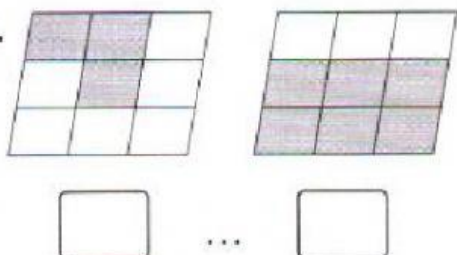
1.



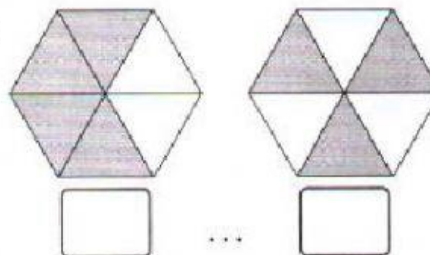
2.



3.



4.



B. Pilihlah jawaban yang paling tepat

1. Perbandingan berikut yang benar adalah

- a. $\frac{2}{8} > \frac{5}{8}$ c. $\frac{7}{15} < \frac{9}{15}$
b. $\frac{4}{9} > \frac{5}{9}$

2. $\frac{8}{35}$ $\frac{8}{21}$.

Tanda perbandingan yang tepat untuk mengisi kotak di atas adalah

- a. > c. =
b. <


3. Pecahan yang nilainya kurang dari $\frac{12}{20}$ adalah

- a. $\frac{12}{13}$ c. $\frac{13}{20}$
b. $\frac{12}{21}$

Pecahan beserta perbandingan yang tepat sesuai bagian yang diarsir pada gambar tersebut adalah

- a. $\frac{2}{4} > \frac{2}{3}$ c. $\frac{2}{3} = \frac{2}{4}$
b. $\frac{2}{4} < \frac{2}{3}$

4. Perhatikan gambar berikut!



5. $\frac{3}{8}$ $\frac{3}{25}$

Tanda perbandingan yang tepat untuk mengisi kotak di atas adalah

- a. > c. =
b. <