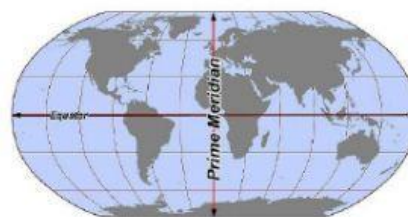
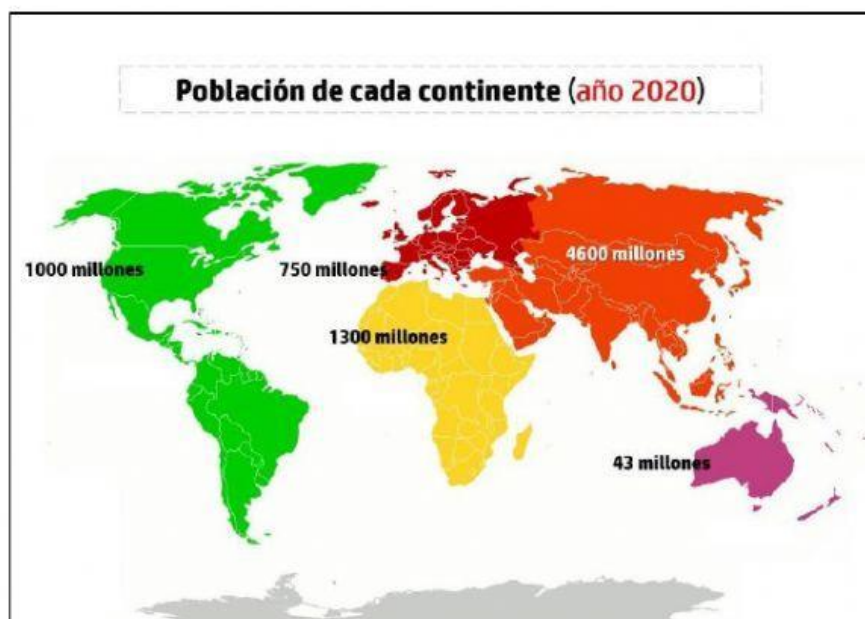


TEMA 3. LA POBLACIÓN.

1. LA DISTRIBUCION DE LA POBLACIÓN EN EL MUNDO.



1. Observa el mapa anterior y ordena los continentes de mayor a menor según su número de habitantes.

	Continente	Nº de Habitantes
1º		millones
2º		millones
3º		millones
4º		millones
5º		millones

2. Responde a las siguientes preguntas

a. ¿En qué hemisferio se concentra la mayor parte de la población mundial?

☐

Norte

☐

Sur

b. De acuerdo con los datos anteriores ¿cuántos millones de habitantes había en el mundo en 2020?

c. ¿Cuál es el continente más poblado?

☐

África

☐

Asia

☐

América

☐

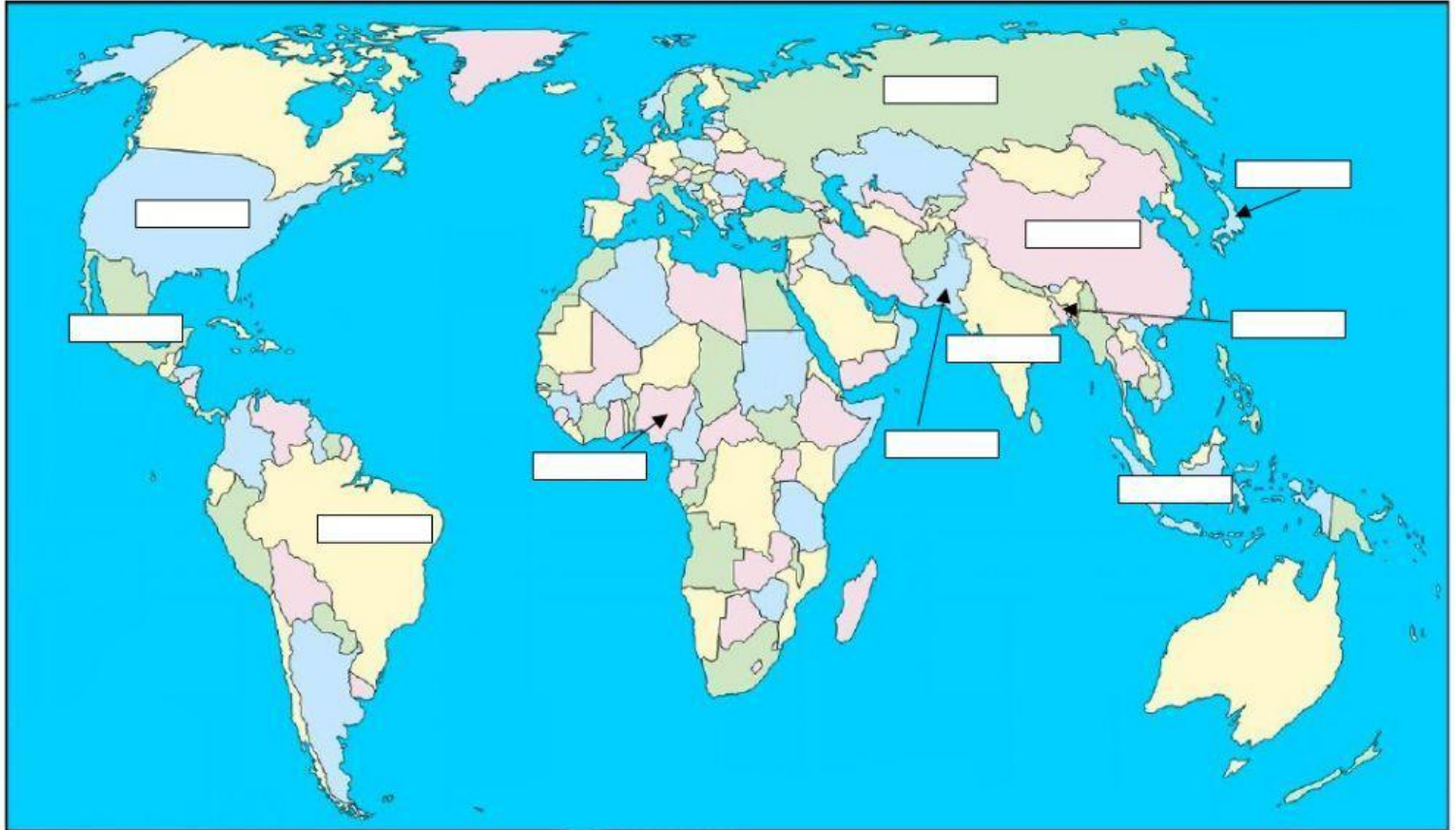
Europa

☐
















Oceanía

3. Sitúa en el mapa los países más poblados del mundo según corresponda.

China 1399 M	Nigeria 206 M	Rusia 144 M	México 133 M	Indonesia 272 M	India 1383 M
Brasil 213 M.	Estados Unidos 332 M	Bangladesh 169M	Japón 125 M	Pakistán 208 M	



Población del Mundo: 2020

China		1,399,008,000
India		1,383,198,000
Estados Unidos		332,264,000
Indonesia		272,223,000
Brasil		213,863,000
Pakistan		208,362,000
Nigeria		206,153,000
Bangladesh		169,775,000
Rusia		144,180,000
México		133,870,000
Japón		125,602,000
Etiopía		112,759,000
Filipinas		109,703,000
Egipto		102,941,000
Vietnam		96,360,000



4. Con la información del gráfico 1 y del mapa responde:

a. ¿En qué continente se localizan los dos países más poblados?

África

América

Europa

Asia

Oceanía

b. ¿Cuáles son los dos países más poblados de América?

Estados Unidos y
México

Estados Unidos y
Brasil

México y Brasil

Estados Unidos y
Bangladesh

5. Consulta la siguiente página web:

https://es.wikipedia.org/wiki/Demograf%C3%ADa_de_Europa y responde (cuidado con la ortografía, tildes y los países son nombres propios se escriben con mayúscula al inicio)

a. ¿Cuántos millones de habitantes tiene Europa?

_____ millones de habitantes

b. ¿Cuál es el país europeo con más población?

c. ¿Y el que tiene menos?

¿Qué puesto ocupa España por población dentro del continente europeo? (tan solo escribe el número)

6. ¿Y en la **Unión Europea**? Consulta este enlace para contestar [Demografía de la Unión Europea - Wikipedia, la enciclopedia libre](#)

a. La Unión Europea tiene _____ millones de habitantes.

b. El país con más población de la Unión Europea es:

c. El menos poblado es: _____

d. España con _____ millones de habitantes ocupa el puesto? (tan solo escribe el número)

_____ por población dentro de la Unión Europea.

