



# UNIDAD EDUCATIVA MATOVELLE

Misioneros Oblatos

El Quinche Ecuador

## PRIMER QUIMESTRE EVALUACIÓN PARCIAL DOS CIENCIAS NATURALES AÑO LECTIVO 2021-2022

Nombre Y Apellido.....

Grado o Curso: 3 ER EGB A- B-

Fecha: .....

Profesor/as: Lic. Mercy Arias, Lic. Jessica Castro

Fecha de entrega: 11 -01-2022.

### 1.- Lea y seleccione la respuesta correcta (2p.)

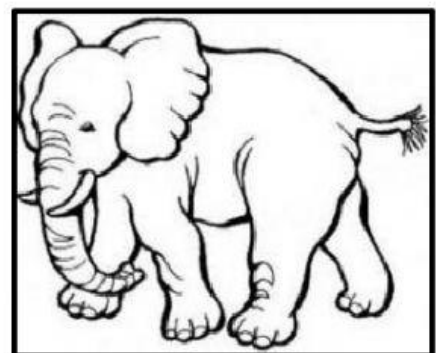


Los animales se clasifican en dos grupos:

- A.- Tienen columna vertebral.
- B.- Tienen pelos y garras.
- C.- No tienen columna vertebral.

### 2.- Encierre las características de los animales vertebrados. (1p.)

- A.-Comen carne.
- B.- Están formados por un esqueleto.
- C.- Nacen de un huevo.


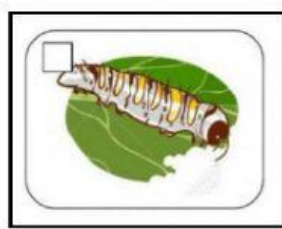

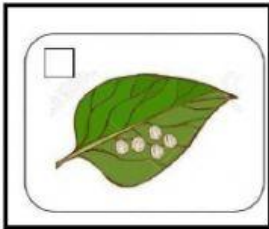
### 3.- Seleccione a los animales vertebrados (2p.)



**4.- Seleccione la respuesta correcta. (1p.)**

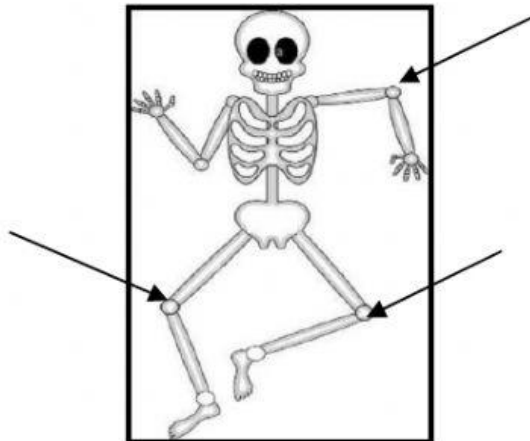
- A.- La columna vertebral se encuentra a un costado de la columna.
- B.- Los animales que no tienen huesos se llaman vertebrados.
- C.- La columna vertebral se encuentra en el centro de la espalda.

**5.- Seleccione la respuesta correcta sobre la metamorfosis de la mariposa. (1p.)**



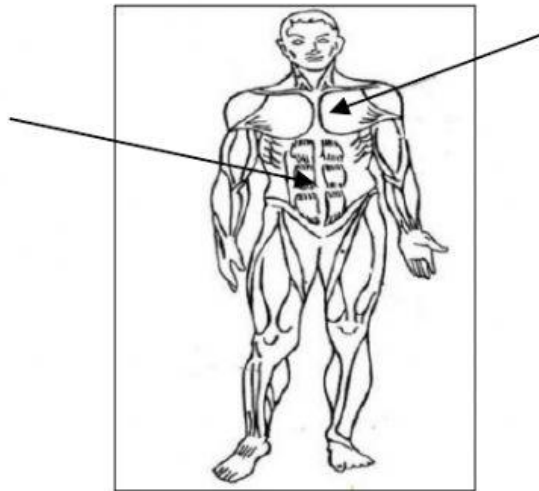
- A.- huevos, mariposa, pupa, oruga.
- B.- huevos, oruga, mariposa, pupa.
- C.- huevos, oruga, pupa, mariposa.

**6.- Observe las flechas que indican en la imagen y seleccione la respuesta correcta. (1p.)**



- A.- Tendones
- B.- Músculos.
- C.- Articulaciones.

7.- Observe los músculos que señalan las flechas y seleccione la respuesta correcta. (1p.)



A.-Bíceps, pectorales

B.-Bíceps, abdominales

C.-Pectorales, abdominales

8.- Seleccione la respuesta correcta. (1p.)

Los músculos son órganos elásticos que permiten:

A.- Tomar oxígeno

B.- Crecer

C.- Contraerse y relajarse.

